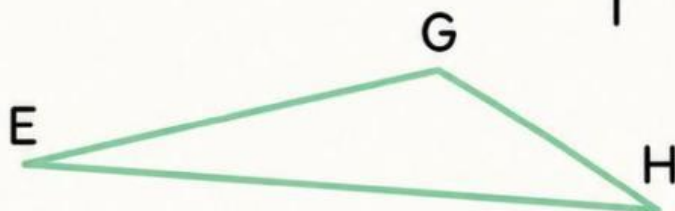
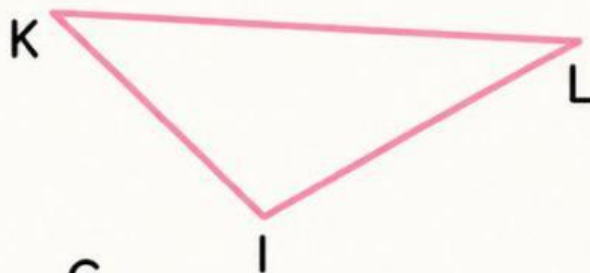


Bài tập 1: Chọn đáp án đúng.



• Hình bên trên là hình / ,

có / đỉnh,

là các đỉnh / ,

có / cạnh,

là các cạnh / .

• Hình bên dưới là hình / ,

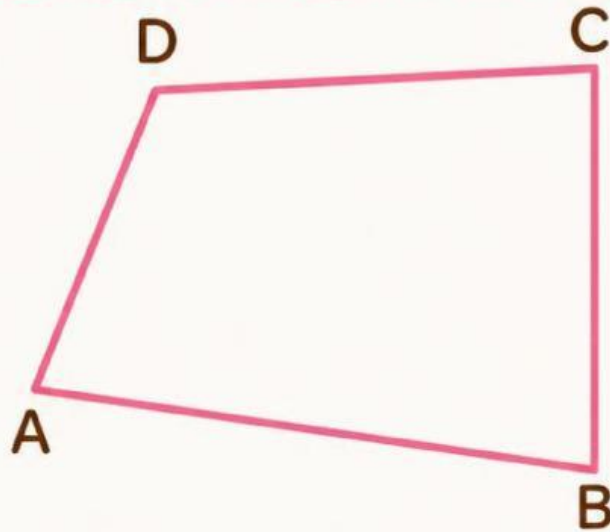
có / đỉnh,

là các đỉnh / ,

có / cạnh,

là các cạnh / .

Bài tập 1: Chọn đáp án đúng.



• Đây là hình / ,

có / đỉnh,

là các đỉnh / ,

có / cạnh,

là các cạnh / .

• Đây là hình / ,

có / đỉnh,

là các đỉnh / ,

có / cạnh,

là các cạnh / .



Bài tập 2: Chọn đáp án đúng.



1 Hình tam giác là hình có 3 đỉnh, 4 cạnh.



2 Hình có 4 đỉnh, 4 cạnh là hình tứ giác.



3 Hình có 3 đỉnh, 3 cạnh là hình tam giác.



Bài tập 3: Điền vào chỗ trống.



Miếng Pizza có hình:

Mặt bàn có hình:

