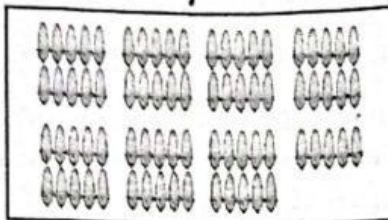





**I. Ayo, memilih salah satu jawaban yang tepat!**

• Gambar untuk soal nomor 1 sampai 3.



Seal Literasi

- Banyak wortel ada ....
  - lima puluh
  - enam puluh
  - tujuh puluh
- Banyak jagung ada ....
  - 57
  - 67
  - 75
- Tabel nilai tempat yang sesuai dengan banyak jagung adalah ....

a.

Puluhan	Satuan
7	5

b.

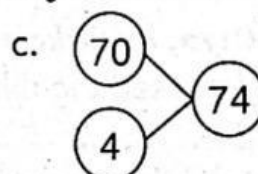
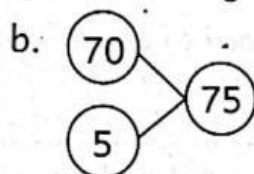
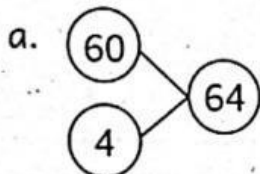
Puluhan	Satuan
5	7

c.


Puluhan	Satuan
6	7



Pasangan bilangan yang sesuai dengan banyak jeli adalah ....



- Bilangan 83 dibaca ....
  - delapan puluh delapan
  - delapan puluh enam
  - delapan puluh tiga

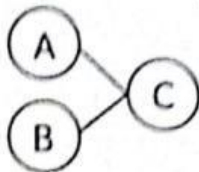


Banyak mobil mainan ada ....

- 62
- 63
- 64



2. Kalimat yang tepat adalah ....
- Banyak kubus mainan Yuda ada enam puluh empat.
  - Banyak kubus mainan Adit ada tujuh puluh lima.
  - Banyak kubus mainan Toni ada tujuh puluh empat.
3. Berikut banyak kubus mainan Toni.




Tentukan pernyataan berikut Benar atau Salah!

Pernyataan	Benar	Salah
Bilangan pengganti A adalah 60.		
Bilangan pengganti A adalah 70.		
Bilangan pengganti B adalah 5.		
Bilangan pengganti C adalah 75.		

4. Pasangan nama dan lambang bilangan yang tepat adalah ....
- enam puluh dua - 62
  - lima puluh delapan - 85
  - tujuh puluh enam - 76

5.



Berikut banyak manggis.

Puluhan	Satuan
A	B
C	

Kalimat yang sesuai adalah ....

- Bilangan pengganti A adalah 60.
- Bilangan pengganti B adalah 2.
- Bilangan pengganti C adalah 62.

- **Cerita berikut untuk soal nomor 6 sampai 8.**

**Soal Literasi**

Lisa, Febi, Toni, dan Beni masing-masing menulis satu bilangan.  
 Lisa menulis bilangan 86.  
 Febi menulis bilangan 88.  
 Toni menulis bilangan 85.  
 Beni menulis bilangan 87.

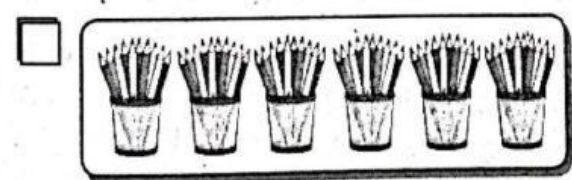

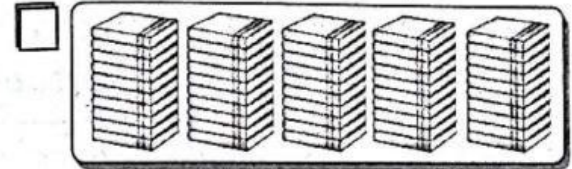
6. Kalimat yang tepat adalah ....
- Bilangan Febi 2 lebihnya dari bilangan Lisa.
  - Bilangan Toni 1 kurangnya dari bilangan Lisa.
  - Bilangan Toni 2 kurangnya dari bilangan Febi.

7. Bilangan Lisa lebih kecil dari bilangan ....
- Febi                       Toni                       Beni

8. Tentukan pernyataan berikut Sesuai atau Tidak Sesuai!

Pernyataan	Sesuai	Tidak Sesuai
Febi menulis bilangan yang lebih kecil dari bilangan Beni.		
Febi menulis bilangan yang lebih besar dari bilangan Beni.		
Toni menulis bilangan yang lebih kecil dari bilangan Beni.		
Toni menulis bilangan yang lebih besar dari bilangan Beni.		

9. Benda yang banyaknya lebih dari 57 adalah ....

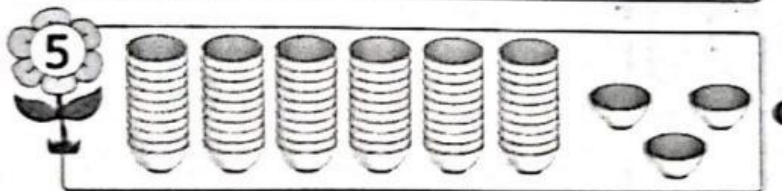






10. Urutan bilangan dari yang terkecil adalah ....

- 57, 64, 89                       69, 81, 95                       52, 73, 68



Ayo, memasangkan gambar dengan nilai tempat bilangan yang sesuai! Pasangkan dengan cara menarik garis lurus!



6 puluhan dan 3 satuan

9 puluhan dan 3 satuan

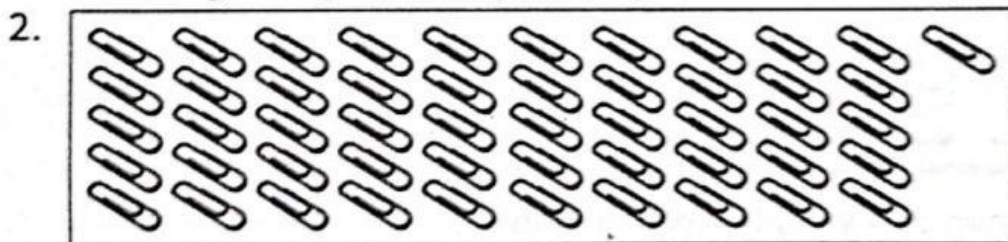
8 puluhan dan 7 satuan

5 puluhan dan 1 satuan

7 puluhan dan 4 satuan

**IV.** Ayo, melengkapi pernyataan-pernyataan berikut dengan tepat!

1. Lambang bilangan enam puluh tujuh adalah .....



Banyak klip kertas ada ..... puluhan dan ..... satuan.

3. Bilangan yang 4 kurangnya dari 83 adalah .....

Gambar berikut untuk soal nomor 4 dan 5.

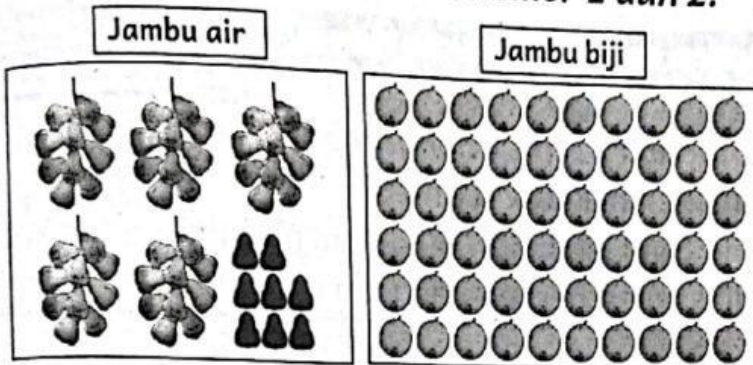


**Soal Literasi**

4. Bilangan paling kecil terdapat di topi milik .....
5. Urutan bilangan di topi dari yang terkecil adalah ....., ....., ....., .....

**V.** Ayo, mengerjakan soal-soal berikut dengan tepat!

Gambar berikut untuk soal nomor 1 dan 2.



1. Hitunglah banyak setiap jenis jambu!  
Jawab: .....
2. Bandingkan banyak kedua jenis jambu!  
Gunakan kata *lebih banyak* dan *lebih sedikit*!

Jawab: .....

3. Wina menghitung banyak sedotan. Wina mengelompokkan tiap 10 sedotan kemudian mengikatnya.

**Soal Literasi**

Wina mendapatkan 5 ikat sedotan.  
Ada sisa 8 sedotan yang tidak diikat.  
Berapa banyak sedotan yang dihitung Wina?

Jawab: .....

**Cerita berikut untuk soal nomor 4 dan 5.**

Mira, Toni, Yuda, dan Lisa masing-masing memiliki kartu bilangan. Bilangan Mira adalah 86. Bilangan Toni 4 lebihnya dari bilangan Mira. Bilangan Yuda 7 kurangnya dari bilangan Toni. Bilangan Lisa 5 kurangnya dari bilangan Yuda.

4. Berapa bilangan di kartu milik Toni, Yuda, dan Lisa?

**Soal Higher Order Thinking Skills**

Jawab: .....

5. Perhatikan bilangan dari masing-masing anak!  
Urutkan bilangan dari yang terkecil!

Jawab: .....

No.	Konsep	Jumlah	Skor	Betul	Nilai (Skor x Betul)
1	Pilihan Ganda	10	1		
2	Pilihan Ganda Kompleks	10	3		
3	Menjodohkan	5	3		
4	Isian	5	4		
5	Uraian	5	5		

Nilai Uji Kompetensi BAB 7

**Ayo Berlatih Keterampilan Berpikir Tingkat Tinggi!**

Soal Higher Order Thinking Skills

Asesmen Sumatif

- **Ayo, mengerjakan soal-soal berikut dengan penalaran!**

1. Gambarlah kelereng dalam kotak A dan B!  
Gambarlah kelereng yang lebih dari 50 dalam masing-masing kotak!  
Banyak kelereng di kotak A berbeda dengan kotak B.

A	B
---	---

Hitung banyak kelereng di setiap kotak!  
Tulislah lambang dan nama bilangannya!

Jawab: .....

2. Lihat jawaban soal nomor 1!  
Tulislah bilangan yang menunjukkan banyak kelereng dalam bentuk pasangan bilangan!

Jawab: .....

3. Lihatlah jawaban soal nomor 1!  
Bandingkan bilangan yang menunjukkan banyak kelereng tersebut!  
Gunakan kata *lebih kecil dari* dan *lebih besar dari*!

Jawab: .....

4. Yuda menuliskan empat bilangan.  
Bilangan pertama adalah 56.  
Bilangan kedua kurang dari bilangan pertama.  
Bilangan ketiga lebih dari bilangan kedua.  
Tulislah kemungkinan bilangan kedua dan ketiga!

Jawab: .....