






ورقة عمل رياضيات صف أول/٣  
الأشكال المستوية

أصنف كل شكل مستوي بما يشبهه: (أسحب)



أسمي كل شكل هندسي: (اختر)



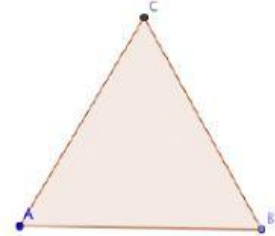
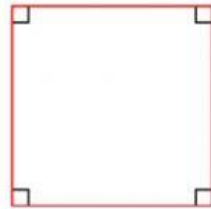
.....

.....

.....

.....

أحدد عدد الرؤوس والأضلاع لكل شكل هندسي: (أكتب)



أضلاع.....

أضلاع.....

أضلاع.....

أضلاع.....

رؤوس.....

رؤوس.....

رؤوس.....

رؤوس.....

معلمة الصف / وداد الكحيلي