

LKPD

MATEMATIKA

Kelas 3 Sekolah Dasar

Oleh: Nadira Mifta Sawiya, M.Pd.



Nama:


Kelas:

TUJUAN PEMBELAJARAN


1. Peserta didik mampu memahami konsep penjumlahan dan pengurangan bilangan.
2. Peserta didik mampu menyelesaikan soal cerita sederhana.
3. Peserta didik mampu bekerja sama dalam kelompok.



PERHATIKAN MATERI DI BAWAH INI: 1. VIDEO



2. PRESENTASI



MATERI PENDUKUNG



ORIENTASI MASALAH

Siti pergi ke toko alat tulis. Ia membeli 3 buku tulis dengan harga Rp5.000 setiap buku dan 2 pensil dengan harga Rp2.000 setiap pensil. Berapa total uang yang harus dibayar Siti?

Jawab:


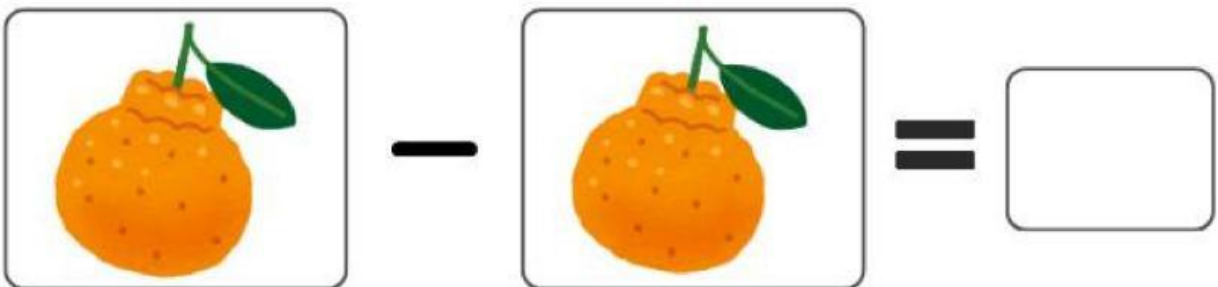


.....
.....
.....

Nama:

Kelas:

PENGURANGAN




Selesaikan pengurangan di bawah ini, lalu tuliskan jawabanmu di kotak yang telah disediakan!



Nama:

Kelas:

Menghubungkan Dua Angka yang Jumlahnya 5




Nama :


Kelas :

MENCARI KATA

Temukan 8 kosakata Warna dari dari tabel huruf berikut!



H	B	N	H	Y	P	H	C	B	D
U	U	M	I	P	U	U	M	U	U
A	D	C	J	A	N	I	E	A	A
K	U	N	I	N	G	J	R	K	P
D	E	Q	D	D	U	K	A	D	U
B	D	H	T	B	Q	G	H	B	T
N	G	Z	H	I	J	A	U	N	I
M	E	R	W	R	H	L	C	J	H
Y	J	C	Y	U	H	I	T	A	M
F	O	R	E	N	F	W	J	T	O

- 
- Merah
 - Putih
 - Hitam
 - Biru
 - Ungu
 - Hijau
 - Oren
 - Kuning

