

LKPD

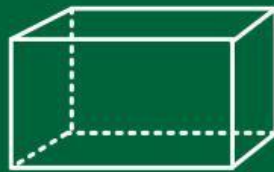
Matematika

Tema:

Bangun Ruang



Bangun Ruang




Nama: _____

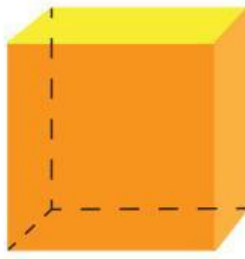
Kelas: _____

Bangun Ruang

1. Perhatikan gambar berikut!



Gambar A



Gambar B



Gambar C

Pertanyaan

Manakah gambar kubus?

Gambar A

Gambar B

Gambar C

2. Perhatikan gambar berikut!



Gambar A



Gambar B



Gambar C

Pertanyaan

Benda yang berbentuk seperti bola adalah...

Gambar A

Gambar B

Gambar C

Ayo Kelompokkan!

3. Tarik benda berikut ke kelompok yang sesuai!



Kelompok

Sisi Datar

Sisi Lengkung

4. Perhatikan gambar berikut!



kubus

balok

bola

Pertanyaan

Bangun ruang yang memiliki sisi lengkung adalah...

Kubus

balok

bola

5. Perhatikan gambar berikut!



Kaleng susu

Pertanyaan

Kaleng susu memiliki bentuk seperti...

Kubus

tabung

bola

6. Perhatikan gambar berikut!



kubus



bola

Pertanyaan

Apa perbedaan utama kedua bangun ruang tersebut?

A. Bola memiliki sisi datar

B. Kubus memiliki sisi datar

C. Kubus berbentuk bulat

7. Perhatikan benda berikut!



Bola

Pertanyaan

Bola dapat menggelinding karena...

A. Memiliki sisi datar

B. Memiliki sisi lengkung

C. Memiliki titik sudut

8. Perhatikan pernyataan berikut!

“Dadu berbentuk bola.”

Pertanyaan

Pernyataan tersebut adalah...

A. Benar

B. Salah

9. Perhatikan gambar berikut!



Kaleng susu

Pertanyaan

Apakah kaleng susu termasuk bangun ruang tabung?

A. Benar

B. Salah

10. Perhatikan benda berikut!



kubus



bola



balok

Pertanyaan

Jika ingin membuat bola basket, bentuk bangun ruang yang paling tepat adalah...

A. Kubus

B. Bola

C. Balok