

# LKPD

## Matematika Kelas 1

Bab 3 Penjumlahan dan Pengurangan 1  
Sampai dengan 10


Nama: \_\_\_\_\_

Kelas: \_\_\_\_\_



Pilih angka yang sesuai untuk jumlah benda berikut.

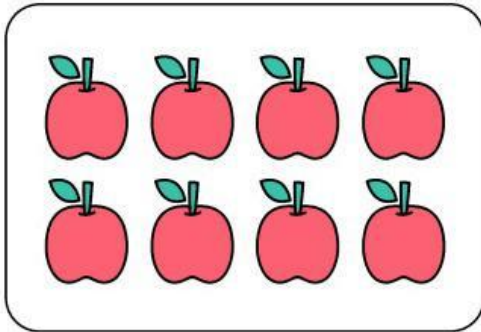
Hitung benda di kolom kiri, lalu beri tanda centang pada angka di sebelah kiri yang sesuai dengan jawaban yang benar.



9

7


3



7

8


3



9

6

8



1

6



3



# Menghitung hasil pengurangan

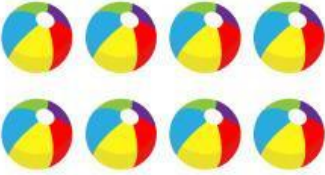



## Bagian 1

Hitung dan tuliskan hasil pengurangan berikut:

 $-$  $=$

 $+$  $=$

 $-$  $=$

 $+$  $=$

# Memahami konsep pengurangan



## Bagian 2

Cocokkan pada jawaban yang benar!

$4+3=?$

2

$7-5=?$

9

$6+3=?$

7

$8-4=?$

4

