

LKPD

Matematika Kelas 1

Bab 3 Penjumlahan dan Pengurangan 1 Sampai dengan 10

Nama: _____

Kelas: _____



TEKA TEKI SILANG

Penjumlahan & pengurangan




1	+	...	=	2	+	5	=	...	+	
		+				+			2	
3	+	3	=	...		4	+	...	=	+
		=				=		+		7
8	-	...	=	...		9		...		=
-								=		9
2	-	1	=	+	8	=	
=		+				-				10
...	-	1	=	5		2				+
		=				=				...
										=




Menghitung hasil pengurangan

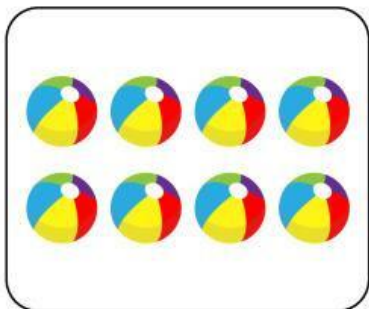
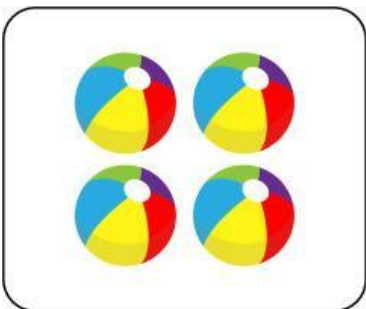



Bagian 1

Hitung dan tuliskan hasil pengurangan berikut:

 $-$  $=$ 

 $+$  $=$ 

 $-$  $=$ 

 $+$  $=$ 

Menyelesaikan soal pengurangan



Bagian 2

Jawablah soal-soal berikut:



1. Ani memiliki 4 apel, kemudian ani makan 1 apelnya, Berapa banyak apel yang dimiliki Ani sekarang?

Jawab: _____

2. Ada 7 anak bermain di taman. 4 anak pulang lebih dulu, Berapa banyak anak yang sedang bermain di taman sekarang?

Jawab: _____



3. Ani mempunyai 3 boneka, kemudian ani meminjamkan bonekanya kepada cici, Berapa banyak boneka yang dimiliki Ani sekarang?

Jawab: _____

Memahami konsep pengurangan



Bagian 3

Cocokkan pada jawaban yang benar!

$4+3=?$

2

$7-5=?$

9

$6+3=?$

7

$8-4=?$

4