



Lembar Kerja Peserta Didik

LKPD

Ilmu Pengetahuan Alam

Bab 5 Ekosistem dan Simbiosis



Nama :

Kelas :

Mencocokkan Simbiois Makhluk Hidup

Lihatlah gambar di bawah ini, amati dan cocokkan dengan simbiosis yang tepat pada pilihan di bagian kanan.



Kupu-kupu dengan bunga

- Mutualisme
- Parasitisme
- Komensalisme



Nyamuk dengan manusia

- Mutualisme
- Parasitisme
- Komensalisme

Mencocokkan Simbiosis Komensalisme

Buatlah garis untuk menghubungkan makhluk hidup dengan yang lainnya agar terbentuk simbiosis komensalisme.



Mendeskripsikan Sebuah Gambar menjadi Cerita


Lihatlah gambar di bawah ini, amati kemudian buatlah cerita atau paragraf tentang gambar tersebut terkait dengan materi simbiosis.



Kutu pada Binatang Berbulu

Menjelaskan Simbiosis Mutualisme

Lihatlah gambar di bawah ini, amati kemudian jelaskan proses simbiosis mutualisme yang terjadi dan keuntungan dari tiap-tiap makhluk hidup.



Proses simbiosis mutualisme:

Ikan Badut: _____

Anemon Laut: _____



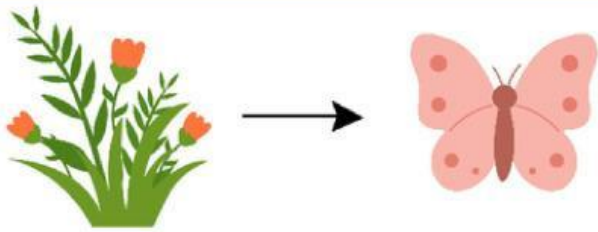
Proses simbiosis mutualisme:

Lebah: _____

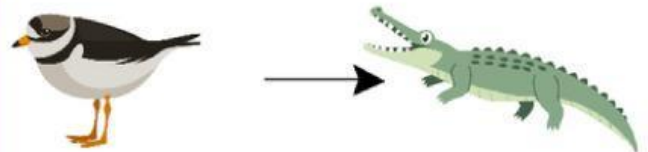
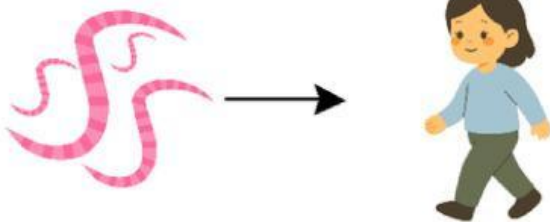
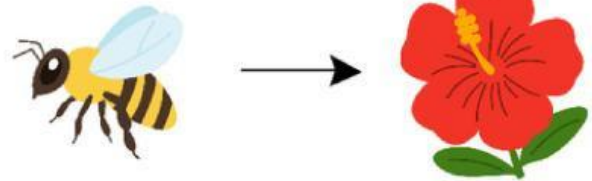
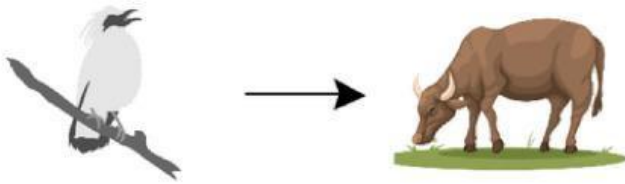
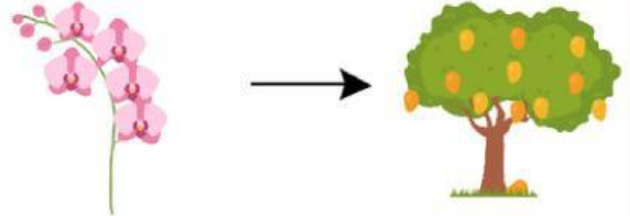
Bunga: _____

Jenis-Jenis Simbiosis

Isilah jawaban pada kolom di bawah ini berdasarkan gambar.



Simbiosis Mutualisme



Penilaian



Masukan Guru

Paraf