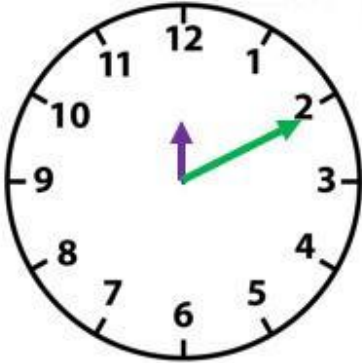


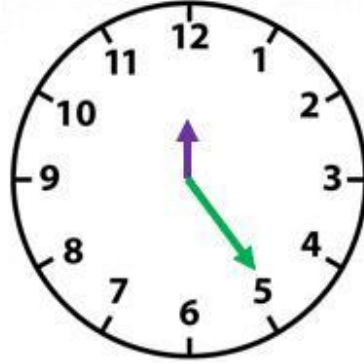
صفحة 1004

9. **الممارسات الرياضية** 4 تمثيل مسائل الرياضيات تخيل أن هناك ساعة يوجد عقرب الساعات بها عند 12 وعقرب الدقائق عند 2. هل الزاوية التي يشكلها العقربان لها قياس أكبر من أم أصغر من أم يساوي

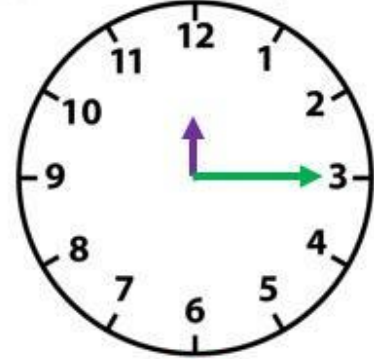
$\frac{1}{4}$ دورة؟



أصغر من $\frac{1}{4}$ دورة



أكبر من $\frac{1}{4}$ دورة



تساوي $\frac{1}{4}$ دورة