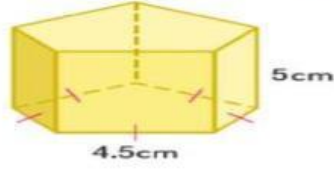


ورقة عمل طبقا للخطة التربوية الفردية
مدرسة أبو سعيد الخدري مادة الرياضيات الصف الحادي عشر عام

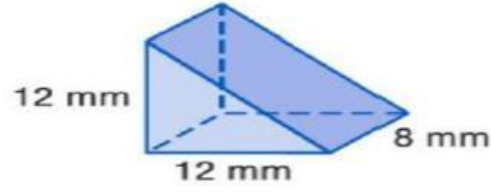
اسم الطالب :

اذكر اسم المجسمات التالية:



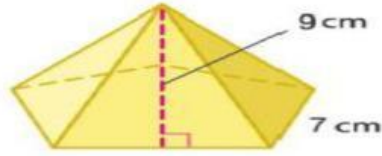
-1

اسم المجسم =



-2

اسم المجسم =



-3

اسم المجسم =