

Nama: .....

Kelas: .....

# Seru Belajar

Pengurangan &  
penjumlahan

## Bilangan Cacah




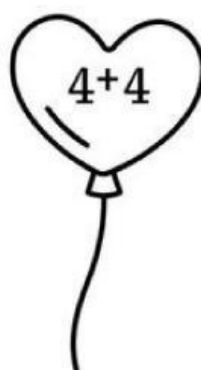
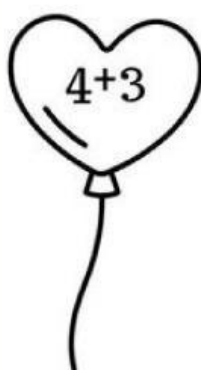
# Pilihan Ganda

**Pilih jawaban yang tepat:**

- 1.  $15 - 7 = \dots$** 
  - A. 9
  - B. 8
  - C. 7
  
- 2. Ani memiliki 20 kelereng, ia memberikan 5 kelereng kepada Budi. Berapa kelereng Ani sekarang?**
  - A. 15
  - B. 25
  - C. 10
  
- 3. Dari 40 pensil, 12 pensil hilang. Sisa pensil sekarang adalah ...**
  - A. 28
  - B. 32
  - C. 25
  
- 3.  $100 - 45 = \dots$** 
  - A. 55
  - B. 50
  - C. 65
  
- 5.  $50 - 30 = \dots$** 
  - A. 20
  - B. 30
  - C. 15

# Penjumlahan Sederhana

Warnai balon sesuai dengan hasil penjumlahannya!



$8 + 5 =$	$10 + 9 =$	$6 + 3 =$	$10 + 10 =$
$6 + 5 =$	$5 + 3 =$	$10 + 8 =$	$5 + 2 =$
$9 + 6 =$	$7 + 5 =$	$10 + 4 =$	$7 + 9 =$

*domimis*

