



# مذهلون

## تصنيف المثلثات

### اختر الإجابة الصحيحة

فكري  
بذكاء  
تألقي دائماً




1

أي شكل يمثل مثلثاً؟



ج

دائرة



ب

مثلث

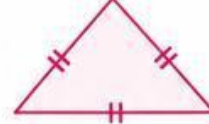


أ

مربع

2

مثلث له ثلاثة أضلاع متساوية يسمى:



ج

مثلث قائم  
الزاوية

ب

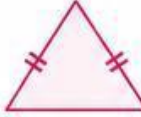
مثلث متساوي  
الأضلاع

أ

مثلث مختلف  
الأضلاع

3

مثلث له ضلعان متساويان يسمى:



ج

مثلث منفرج  
الزاوية

ب

مثلث حاد  
الزوايا

أ

مثلث متساوي  
الساقين

4

مثلث جميع أضلاعه مختلفة يسمى:



ج

مثلث قائم  
الزاوية

ب

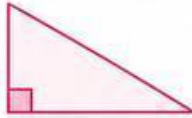
مثلث مختلف  
الأضلاع

أ

مثلث متساوي  
الأضلاع

5

مثلث فيه زاوية قائمة ( $90^\circ$ ) يسمى:



ج

مثلث متساوي  
الساقين

ب

مثلث حاد  
الزوايا

أ

مثلث قائم  
الزاوية

6

مثلث جميع زواياه أقل من  $90^\circ$  يسمى:



ج

مثلث منفرج  
الزاوية

ب

مثلث قائم  
الزاوية

أ

مثلث حاد  
الزوايا

7

مثلث فيه زاوية أكبر من  $90^\circ$  يسمى:



ج

مثلث متساوي  
الأضلاع

ب

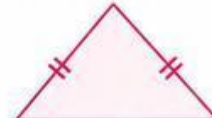
مثلث منفرج  
الزاوية

أ

مثلث حاد  
الزاوية

8

انظري إلى المثلث أدناه، ما نوعه؟



ج

مثلث مختلف  
الأضلاع

ب

مثلث متساوي  
الساقين

أ

مثلث متساوي  
الأضلاع

أنت مذهلة... ونجاحاتك تبدأ من تفكيرك!