

LKPD

✦ Lembar Kerja Peserta Didik ✦

MATEMATIKA

DIAGRAM GAMBAR

KELAS 1

Belajar menyajikan data dalam bentuk gambar yang menyenangkan!



Nama : _____

Kelas : _____

Sekolah : _____







DIAGRAM

LENGKAPILAH KALIMAT SESUAI DENGAN ISI DIAGRAM!

Nama :

Kelas :

@yenisarodja

Ayam	
Sapi	
Gajah	
Bebek	
Zebra	
Singa	

1. Hewan dengan jumlah yang paling sedikit adalah
2. Hewan dengan jumlah paling banyak adalah
3. Hewan yang memiliki jumlah yang sama adalah
4. Hewan zebra ber jumlah
5. Jumlah gajah lebih daripada singa.
6. Jumlah bebek daripada sapi.
7. Jumlah seluruh hewan ada
8. Ayam ber jumlah


Nama : _____

Kelas : _____

Ayo, Kerjakan!

Tuliskan nama dan jumlah buah sesuai data

Buah-buahan Kesukaan











Tabel Buah-buahan Kesukaan


Nama Buah	Jumlah Buah
.....
.....
.....
.....
.....

P5(CARI DAN HITUNG)

Ayo bantu Dina dan Dino untuk mencari dan menghitung gambar makanan sehat pada kotak yang telah disediakan!





Nama :

DIAGRAM

Data makanan kegemaran siswa kelas I



@yenisarodja

1. banyak siswa yang suka makan soto adalah.....
2. banyak siswa yang gemar makan mie ayam adalah.....
3. makanan yang digemari oleh 4 siswa adalah.....
4. makanan yang digemari oleh 7 siswa adalah....., dan.....
5. makanan yang paling sedikit digemari oleh siswa adalah.....
6. makanan yang paling banyak digemari oleh siswa adalah.....
7. selisih jumlah banyak siswa yang gemar makanan sate dan bakso adalah.....
8. jumlah siswa seluruhnya adalah.....