

NAME

DATE

CLASS

SCORE



Classification of Living Things



Pilihlah cara penulisan ilmiah yang benar

Panthera tigris

Panthera tigris

Panthera Tigris

PANTHERA TIGRIS

FELIS CATUS

Felis Catus

Felis Catus


Felis catus

Pasangkan istilah berikut dengan penjelasan yang tepat!

Identifikasi hewan berikut menggunakan kunci identifikasi di bawah!



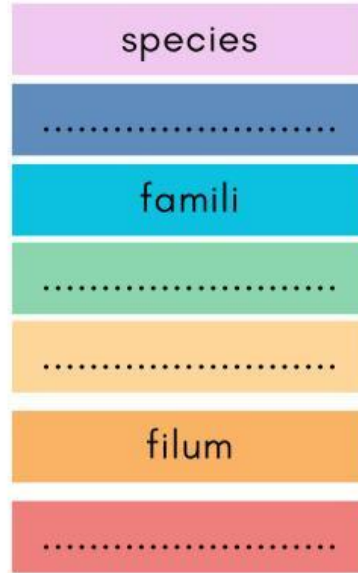
- | | | |
|----|------------------------------------|--------------|
| 1. | a. Bertulang belakang..... | 2 |
| | b. Tidak bertulang belakang..... | Invertebrata |
| 2. | a. Tubuh basah..... | 3 |
| | b. Tubuh tidak basah..... | 4 |
| 3. | a. Bergerak dengan sirip..... | Pisces |
| | b. Bergerak dengan empat kaki..... | Amphibia |
| 4. | a. Menyusui anaknya..... | Mamalia |
| | b. Tidak menyusui anaknya..... | 5 |
| 5. | a. Tubuh ditutupi bulu..... | Aves |
| | b. Tubuh ditutupi sisik..... | Reptilia |



Klasifikasi Makhluk Hidup



Lengkapi urutan taksonomi makhluk hidup berikut!



Isilah ciri-ciri makhluk hidup sistem 5 kingdom berikut!



Nama Kingdom

.....

.....

.....

.....

.....

jumlah sel

.....

.....

.....

.....

.....

membran inti

.....

.....

.....

.....

.....

cara
mendapatkan
makanan

.....

.....

.....

.....

.....

reproduksi

.....

.....

.....

.....

.....

contoh


.....


.....

.....

.....

.....





Vertebrata & Invertebrata



[Blank label box]



[Blank label box]



[Blank label box]



[Blank label box]



[Blank label box]



Cnidarian



Annelida



Mollusca

Echinodermata



Insecta

Crustacea

Arachnida

Centipedes

