

TÊN:

PHIẾU GIAO VIỆC

1/ Đặt tính rồi tính:

$415 + 6$

$325 + 402$

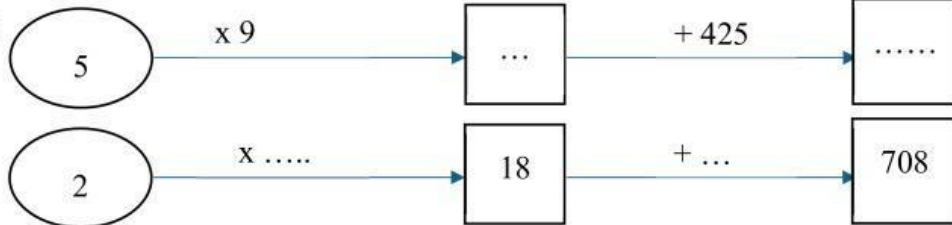
$627 - 35$

$666 - 507$

$67 + 203$

.....
.....
.....

2/ Số?



3/ Số?

$a/ \dots + 227 = 967$

$d/ \dots - 28 = 210$

$h/ 307 - \dots = 105$

$b/ 216 + \dots = 876$

$e/ \dots - 214 = 594$

$i/ 854 - \dots = 46$

$c/ \dots + 315 = 350$

$g/ \dots - 508 = 282$

$k/ 596 - \dots = 166$

4/ Tính:

$a/ 2 \times 7 + 126 = \dots$

$b/ 436 + 16 : 2 = \dots$

$= \dots$

$= \dots$

$c/ 25 : 5 \times 9 = \dots$

$d/ 897 - 621 - 139 = \dots$

$= \dots$

$= \dots$

$e/ 500 - 2 \times 10 = \dots$

$g/ 248 - 45 : 5 = \dots$

$= \dots$

$= \dots$

5/ Cho các số: 327, 319, 562, 309

a. Xếp các số trên theo thứ tự từ lớn đến bé:

b. Xếp các số trên theo thứ tự từ bé đến lớn:

6/ Cho các số: 999, 529, 987, 789

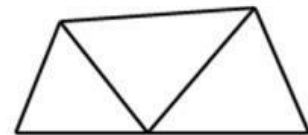
a/ Xếp các số trên theo thứ tự tăng dần:

b/ Xếp các số trên theo thứ tự giảm dần:

7/ Trong hình vẽ bên có

a/ Có hình tam giác.

b/ Có hình tứ giác



8/ Câu 1: Điền dấu: >, <, =

$a. 8 \text{ m} \dots 80 \text{ dm}$

$b. 7 \text{ m} \dots 8 \text{ m}$

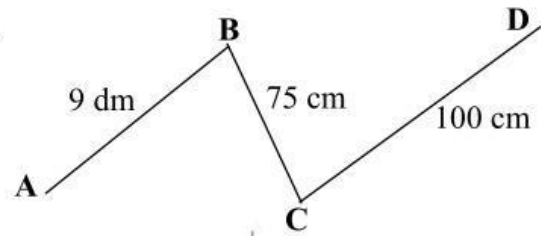
$c. 999 \text{ m} \dots 1 \text{ km}$

$d. 5 \text{ dm} \dots 49 \text{ cm}$

$e. 500 \text{ cm} \dots 5 \text{ m}$

$g. 307 \text{ cm} \dots 319 \text{ cm}$

9/ Độ dài đường gấp khúc ABCD là cm.



10/ Các đồ vật sau có dạng hình gì?



.....
.....



.....
.....



.....
.....



.....
.....

11/ Đúng ghi Đ, sai ghi S

a. $923 = 900 + 2 + 3$

b. $2 + 2 + 2 + 2 = 2 \times 4$

c. Số liền trước của 250 là 249.

d. Số 546 được đọc là năm trăm bốn sáu.

12/ Số thích hợp điền vào chỗ chấm là :

a/ 280, 290 ,, 310.

b/ 200, 400 ,,, 1000.

c/ 343, 344, 345,, 347,,, 350.

d/ a. 550, 555,,, 570, 575, 580,

13/ Nói phép tính với kết quả đúng:

$487 - 259$

$231 - 30$

228

451

201

14/ Nói :

$50 : 5 = 10$

Số bị chia

Thương

Thừa số

15/ Đổi: a/ 8 m = dm

b/ cm = 5 m

c/ 1 dm = cm

d/ 100 cm = dm

e/ 1 km = m

g/ m = 40 dm

21/ Tóm tắt và giải bài toán sau: Một cửa hàng cả ngày bán được 100 kg gạo, trong đó buổi sáng bán được 70 kg gạo. Hỏi buổi chiều bán được bao nhiêu ki-lô-gam gạo?

.....

.....

.....

.....

.....

.....

.....

.....

.....

.....

22/ Tóm tắt và giải bài toán sau: Mỗi ngôi sao có 5 cánh. Hỏi 1 chục ngôi sao như thế có tất cả bao nhiêu cánh?

.....

.....

.....

.....

.....

.....

.....

.....

.....

.....

22/ Tóm tắt và giải bài toán sau: Có 2 chục cái kẹo, chia đều cho mỗi bạn 5 cái. Hỏi có mấy bạn được chia kẹo?

.....

.....

.....

.....

.....

.....

.....

.....

.....

.....