

# E-LKPD

## MATEMATIKA BANGUN DATAR

KELAS 2 SEKOLAH DASAR



Nama:


Kelas:

Nama: \_\_\_\_\_

Kelas: \_\_\_\_\_

# BANGUN DATAR


Berilah warna tiap bangun datar, kemudian tuliskan jumlah sisi dan sudutnya



PERSEGI

Sisi: \_\_\_\_\_

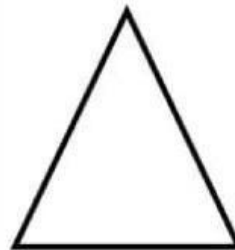
Sudut: \_\_\_\_\_



LINGKARAN

Sisi: \_\_\_\_\_


Sudut: \_\_\_\_\_



SEGITIGA

Sisi: \_\_\_\_\_


Sudut: \_\_\_\_\_



OVAL

Sisi: \_\_\_\_\_

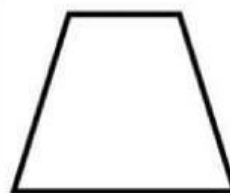
Sudut: \_\_\_\_\_



PERSEGI  
PANJANG

Sisi: \_\_\_\_\_

Sudut: \_\_\_\_\_



TRAPESIUM

Sisi: \_\_\_\_\_

Sudut: \_\_\_\_\_



## Lembar Kerja

# Bangun Datar

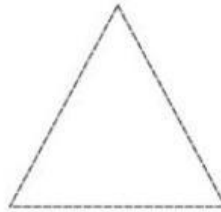


Tebalkan ruas garis pada bangun datar berikut, kemudian hitunglah berapa banyak sisi, sudut, dan titik sudutnya!



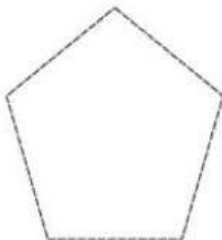
PERSEGI

Banyak sisi :  
Banyak sudut :  
Banyak titik sudut :



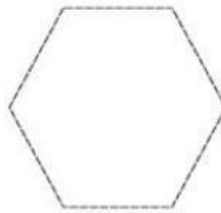
SEGITIGA

Banyak sisi :  
Banyak sudut :  
Banyak titik sudut :



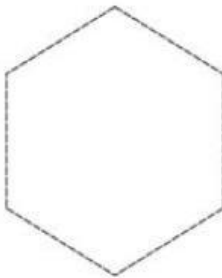
SEGI LIMA

Banyak sisi :  
Banyak sudut :  
Banyak titik sudut :



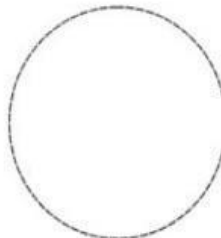
SEGI ENAM

Banyak sisi :  
Banyak sudut :  
Banyak titik sudut :



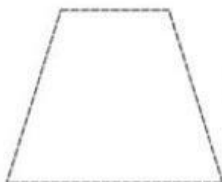
SEGI DELAPAN

Banyak sisi :  
Banyak sudut :  
Banyak titik sudut :



LINGKARAN

Banyak sisi :  
Banyak sudut :  
Banyak titik sudut :



TRAPESIUM

Banyak sisi :  
Banyak sudut :  
Banyak titik sudut :



JAJAR GENJANG

Banyak sisi :  
Banyak sudut :  
Banyak titik sudut :

Nama :

Kelas :

### Bangun Datar

	Nama Segi Empat	Gambarlah dan sebutkan ciri-cirinya
1.	Persegi	
2.	Persegi panjang	
3.	Jajar genjang	
4.	Trapesium	
5.	Layang-Layang	
6.	Belah ketupat	

Berilah tanda  pada kolom benar/salah sesuai dengan pernyataan
















	Pernyataan	Benar	Salah
1.	Memiliki 4 sudut merupakan salah satu ciri dari bangun datar persegi		
2.	Persegi adalah segi empat yang semua sisi nya sama panjang		
3.	Jajar genjang memiliki empat sisi yang sama panjang		
4.	Trapesium memiliki dua pasang sisi yang sejajar		



**Lembar Kerja**

**- MENGENAL GEOMETRI -**

Berikan tanda cek (v) pada gambar yang diminta !

1. Manakah yang berbentuk persegi?
<input type="checkbox"/>  <input type="checkbox"/>  <input type="checkbox"/> 
2. Manakah yang berbentuk lingkaran?
<input type="checkbox"/>  <input type="checkbox"/>  <input type="checkbox"/> 
3. Manakah yang berbentuk segitiga?
<input type="checkbox"/>  <input type="checkbox"/>  <input type="checkbox"/> 
4. Manakah yang berbentuk lingkaran?
<input type="checkbox"/>  <input type="checkbox"/>  <input type="checkbox"/> 
5. Manakah yang berbentuk persegi?
<input type="checkbox"/>  <input type="checkbox"/>  <input type="checkbox"/> 

# Mengelompokkan Bangun Datar

Hubungkan benda-benda yang sama bentuknya!

