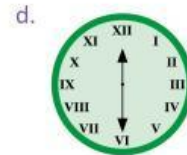
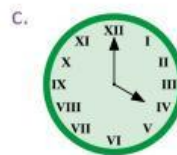


2.5 Practica lo aprendido

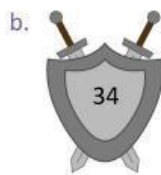
1. ¿Cuáles de las siguientes representaciones no corresponden a un número romano? Explica el porqué.



2. Expresa qué horas marcan los siguientes relojes:



3. Escribe el número romano equivalente, en cada caso:



4. Indica qué números cumplen con las reglas de los números romanos, y corrige las representaciones incorrectas:



★Desafíate

1. Reescribe el párrafo utilizando números naturales (u ordinales):

Marta participó en el XXVI certamen de poesía, que se realizó en el año MMXVI. Al jurado le gustó tanto su poema que decidió incluirlo en el capítulo IX del tomo II de un libro.

2. Ordena los siguientes números romanos, de menor a mayor:

a. XXIX, XXXIX, XXXVI, XLV

b. XCVII, LXXXIX, CLXX, LXVI