

## Lembar Kerja Peserta Didik

# LKPD

Untuk Fase A kelas I

Materi : Penjumlahan dan Pengurangan

Sederhana



Nama Kelompok :

-----

Kelas / Fase

-----

Semester

-----

Hari / Tanggal

-----

Materi

Penjumlahan dan Pengurangan

Alokasi Waktu


20 Menit

Anggota Kelompok :

- 1.
- 2.
- 3.




### A. Tujuan LKPD



Setelah mengerjakan L.KPD ini diharapkan peserta didik mampu memahami konsep penjumlahan dan pengurangan dan mampu menyelesaikan permasalahan penjumlahan dan pengurangan dalam kehidupan sehari-hari.

### B. Petunjuk Pengerjaan

1. Bacalah kembali hasil pemikiran awalmu pada tahap Think
  2. Diskusikan jawabanmu dengan kelompok
  3. Tuliskan hasil diskusi secara jelas dan runtut
  4. Gunakan bahasa yang baik dan murlah di pahami
  5. Sampaikan hasil diskusi pada bagian shere dengan percaya diri
- 

Diskusikanlah Soal-Soal Di Bawah Ini



# PENJUMLAHAN DAN PENGURANGAN



PETUNJUK :

Mari bersama menjawab soal Penjumlahan & Pengurangan!

$$6 + 2 = \bigcirc$$

$$5 - 1 = \bigcirc$$

$$3 + 3 = \bigcirc$$

$$8 - 2 = \bigcirc$$

$$1 + 7 = \bigcirc$$

$$3 - 1 = \bigcirc$$

$$6 + 1 = \bigcirc$$

$$8 - 4 = \bigcirc$$

$$2 + 8 = \bigcirc$$













$$9 - 7 = \bigcirc$$





# JUMLAH DAN SELISIH

Hitunglah benda di bawah dan cari jumlah-selisihnya!

1		5	+	11
		6	+	
2		—	+	—
		—	+	—
3		—	-	—
		—	-	—
4		—	+	—
		—	+	—
5		—	-	—
		—	-	—
6		—	+	—
		—	+	—