



LEMBAR KERJA PESERTA DIDIK (LKPD)

BERORIENTASI **HOTS**

UNTUK MENINGKATKAN KEMAMPUAN ANALISIS

PESERTA DIDIK KELAS VII

EKONOMI LINGKUNGAN SEKITAR

LIVE
WORKSHEETS

PRODUKSI

DISTRIBUSI

KONSUMSI

“ Analisis hari ini, solusi untuk lingkungan dan ekonomi yang lebih baik esok hari. ”



- ✓ Berpikir Analitis
- ✓ Kontektual
- ✓ Interaktif
- ✓ Menantang

Oleh
DWI USWATUN KHASANAH
NIM: 2287203060



PROGRAM STUDI
PENDIDIKAN EKONOMI



FAKULTAS
ILMU PENDIDIKAN



2026

LKPD BERBASIS HOTS

(LIVWORKSHEET)

Ekonomi di Lingkungan Sekitar



I. IDENTITAS PESERTA DIDIK



Nama : _____



Kelas : _____



Tanggal : _____



PETUNJUK Pengerjaan

- 1 Bacalah setiap soal dengan teliti
- 2 Amati stimulus yang diberikan
- 3 Jawablah pertanyaan sesuai hasil analisismu
- 4 Isi jawaban langsung pada kolom yang tersedia
- 5 Kerjakan secara mandiri atau kelompok



“ Belajar bukan hanya menghafal, tapi memahami, menganalisis, dan memecahkan masalah untuk kehidupan yang lebih baik. ”



LKPD BERORIENTASI

HOTS

BERBASIS

LIVWORKSHEET

EKONOMI DI LINGKUNGAN SEKITAR

Nama :
Kelas :
Tanggal :



“ Belajar bukan hanya menghafal, tetapi memahami, menganalisis, dan memecahkan masalah untuk kehidupan yang lebih baik. ”

01 KOMPETENSI PEMBELAJARAN



Peserta didik mampu memahami konsep kegiatan ekonomi serta menganalisis keterkaitan antara produksi, distribusi, dan konsumsi dalam kehidupan sehari-hari di lingkungan sekitar.



02 CAPAIAN PEMBELAJARAN




Pada akhir Fase D, peserta didik mampu memahami dan menganalisis kegiatan ekonomi (produksi, distribusi, dan konsumsi) serta keterkaitannya dalam memenuhi kebutuhan manusia. Peserta didik juga mampu mengidentifikasi permasalahan ekonomi di lingkungan sekitar dan menganalisis dampaknya dalam kehidupan masyarakat.



03 TUJUAN PEMBELAJARAN (FOKUS C4 – ANALISIS)

- 1 Menganalisis jenis kegiatan ekonomi (produksi, distribusi, dan konsumsi) di lingkungan sekitar.
- 2 Menganalisis hubungan antara kegiatan produksi, distribusi, dan konsumsi dalam memenuhi kebutuhan manusia.
- 3 Menganalisis permasalahan ekonomi yang terjadi di lingkungan sekitar berdasarkan studi kasus atau hasil pengamatan.
- 4 Menganalisis faktor-faktor yang memengaruhi kegiatan ekonomi di lingkungan sekitar.
- 5 Menganalisis dampak permasalahan ekonomi terhadap kehidupan masyarakat.
- 6 Menganalisis informasi atau data kegiatan ekonomi yang disajikan dalam bentuk wacana, gambar, atau tabel.



ANALISIS



KRITIS



KREATIF



KOLABORATIF



KOMUNIKATIF

Gunakan kemampuan berpikirmu untuk memahami ekonomi di sekitarmu dan menjadi bagian dari solusi.



LIVWORKSHEETS

PETA KONSEP

LKPD BERBASIS HOTS (LIVEWORKSHEET)

Ekonomi di Lingkungan Sekitar

Tahukah Kamu?

Kegiatan ekonomi terjadi setiap hari di sekitar kita, seperti di rumah, sekolah, pasar, hingga masyarakat.

Ayo Berpikir!

Apa saja aktivitas ekonomi yang ada di lingkungan sekitarmu?

KEGIATAN EKONOMI

Segala aktivitas manusia untuk memenuhi kebutuhan hidup.

PRODUKSI

Kegiatan menghasilkan atau menambah nilai guna suatu barang atau jasa.

Contoh

Petani menanam padi, nelayan menangkap ikan, pengrajin membuat kerajinan.

DISTRIBUSI

Kegiatan menyalurkan barang atau jasa dari produsen kepada konsumen.

Contoh

Pedagang mengirim barang, agen menyalurkan produk, logistik mengantar barang.

KONSUMSI

Kegiatan menggunakan atau menghabiskan barang dan jasa untuk memenuhi kebutuhan.

Contoh

Membeli makanan, menggunakan pakaian, memanfaatkan layanan jasa.

MASALAH EKONOMI

Ketidakeimbangan antara kebutuhan manusia yang tidak terbatas dengan alat pemenuh kebutuhan yang terbatas.

Contoh Masalah



Kelangkaan



Kesenjangan



Pengangguran



Inflasi

Dampaknya

- Pendapatan menurun
- Kebutuhan sulit terpenuhi
- Kesejahteraan masyarakat menurun

Solusi Cerdas

Analisis yang baik akan menghasilkan keputusan yang efektif dan solusi yang bermanfaat bagi banyak orang.

SOLUSI & ANALISIS

Analisis masalah ekonomi untuk menemukan solusi yang tepat demi meningkatkan kesejahteraan masyarakat.

Langkah Analisis



Identifikasi Masalah



Analisis Data



Evaluasi Alternatif



Tentukan Solusi



Implementasi Solusi

Tujuan Akhir

Masyarakat yang sejahtera, mandiri, dan berkelanjutan.

“Belajar ekonomi bukan hanya tentang uang, tetapi tentang bagaimana kita membuat kehidupan lebih baik.”

LIVEWORKSHEETS

STORY (ORIENTASI MASALAH)

Ayo Membaca!

Desa Sejahtera

Desa Sejahtera dikenal sebagai daerah penghasil sayur mayur yang melimpah. Setiap hari, para petani bekerja keras menanam dan memanen hasil pertanian seperti cabai, dan sayuran hijau. Hasil panen tersebut sebenarnya sangat berkualitas dan dibutuhkan oleh masyarakat di kota. Namun, karena keterbatasan sarana transportasi dan akses jalan yang kurang memadai, banyak hasil panen tidak dapat didistribusikan dengan baik ke pasar kota. Akibatnya, sebagian hasil panen terbuang dan harga jual di desa menjadi sangat rendah.

Kondisi ini membuat pendapatan petani menurun dan kesejahteraan masyarakat desa ikut terdampak. Di sisi lain, masyarakat di kota justru mengalami kenaikan harga sayur karena pasokan yang terbatas. Permasalahan ini menunjukkan adanya ketidakseimbangan dalam kegiatan ekonomi, khususnya pada proses distribusi. Oleh karena itu, diperlukan analisis yang tepat untuk memahami hubungan antara produksi, distribusi, dan konsumsi agar dapat ditemukan solusi yang dapat meningkatkan kesejahteraan masyarakat Desa Sejahtera.



Soal 1 (Short Answer)

Apa masalah utama dalam kasus tersebut?

Jawaban:



Soal 2 (Short Answer)

Kegiatan ekonomi apa yang paling bermasalah dalam kasus tersebut? Jelaskan!

Jawaban:



Ayo berpikir kritis! Pahami masalahnya, temukan penyebabnya, lalu cari solusinya!

KEGIATAN 2

IDENTIFIKASI KEGIATAN EKONOMI

Ayo Membaca:

Di lingkungan sekitar kita, berbagai kegiatan ekonomi terjadi setiap hari. Di pagi hari, Pak Andi pergi ke sawah untuk menanam dan merawat tanaman padi agar dapat dipanen dengan hasil yang baik. Setelah panen, padi tersebut dijual kepada pedagang yang kemudian mengangkutnya ke pasar menggunakan kendaraan. Di pasar, para pedagang menjual beras kepada masyarakat yang membutuhkan untuk dikonsumsi sehari-hari.

Selain itu, di desa juga terdapat ibu-ibu yang membuat kerajinan tangan seperti anyaman bambu. Hasil kerajinan tersebut dijual ke toko oleh pengepul, kemudian dibeli oleh wisatawan atau masyarakat sekitar. Semua kegiatan tersebut menunjukkan adanya keterkaitan antara **produksi**, **distribusi**, dan **konsumsi** dalam memenuhi kebutuhan manusia.



3 Soal 3: Mencocokkan (Matching)

Pasangkan kegiatan berikut dengan jenis kegiatan ekonomi:



Petani menanam padi →



Pedagang menjual barang →



Masyarakat membeli barang →

Pilihan:

A. Produksi

B. Distribusi

C. Konsumsi

4 Soal 4: (Multiple Choice)

Kegiatan menyalurkan barang dari produsen ke konsumen disebut:

a. Produksi

b. Distribusi

c. Konsumsi

d. Investasi



5 Soal 5: (Short Answer - C4)

Berikan contoh kegiatan ekonomi di lingkungan sekitarmu, lalu analisis jenisnya!

Jawaban:



Produksi



Distribusi



Konsumsi



Tahukah Kamu?


Produksi adalah kegiatan menghasilkan barang atau jasa untuk memenuhi kebutuhan manusia.

KEGIATAN 3

PRODUKSI

HOTS
Higher Order Thinking Skills

Ayo Mengamati!



Seorang petani mengalami penurunan hasil panen karena cuaca tidak menentu dan kekurangan pupuk. Selain itu, alat pertanian yang digunakan masih sederhana sehingga proses produksi menjadi kurang optimal.

Faktor Penyebab



Cuaca tidak menentu



Kekurangan pupuk



Alat pertanian masih sederhana

A ISIAN SINGKAT

1 Apa masalah produksi yang dialami petani tersebut?



Jawaban: _____

2 Analisis dua faktor penyebab masalah produksi tersebut!



Jawaban:

1. _____

2. _____

B PILIHAN GANDA

3 Faktor utama yang menyebabkan produksi menurun adalah

- a. Banyaknya pembeli
- b. Cuaca tidak menentu
- c. Harga barang mahal
- d. Banyaknya konsumsi



4 Jika alat pertanian diperbaiki menjadi lebih modern, maka kemungkinan yang terjadi adalah

- a. Produksi menurun
- b. Produksi tetap
- c. Produksi meningkat
- d. Produksi berhenti



5 Solusi yang paling tepat untuk mengatasi masalah produksi tersebut adalah

- a. Mengurangi jumlah panen
- b. Menggunakan teknologi pertanian modern
- c. Menutup lahan pertanian
- d. Mengurangi tenaga kerja



Ayo Berpikir Kritis!

Pahami masalahnya, temukan penyebabnya, lalu cari solusi terbaik!

Ingat! Produksi yang baik akan menghasilkan barang berkualitas dan meningkatkan kesejahteraan masyarakat.

DISTRIBUSI

Kegiatan 4: Distribusi



Tahukah Kamu?

Distribusi yang baik membuat barang sampai ke tangan konsumen dengan tepat waktu dan kondisi baik!

Tujuan:

Menganalisis dampak distribusi yang terhambat dan menemukan solusi agar distribusi berjalan lancar.

STIMULUS

Seorang sopir truk mengangkut sayuran dari desa menuju kota. Namun, di tengah perjalanan, jalan rusak dan kemacetan membuat pengiriman terlambat. Akibatnya, sebagian sayuran menjadi layu dan tidak layak jual.



1 Soal 1 – Isian Singkat (Analisis Dampak)

Apa dampak dari distribusi yang terhambat pada kasus tersebut?

Jawaban:

2 Soal 2 – Isian Singkat (Analisis Solusi)

Analisis solusi yang dapat dilakukan agar distribusi berjalan lancar!

Jawaban:

3 Soal 3 – Drag & Drop (Dampak Distribusi Terhambat)

Instruksi: Seret pernyataan ke kolom yang sesuai!

Pernyataan

- 1 Barang menjadi rusak
- 2 Harga barang meningkat
- 3 Barang cepat sampai
- 4 Konsumen kesulitan mendapatkan barang
- 5 Distribusi berjalan lancar

Dampak Distribusi Terhambat

Bukan Dampak

4 Soal 4 – Drag & Drop (Solusi Distribusi)

Instruksi: Seret solusi yang tepat ke dalam kotak "Solusi Tepat"!

Pilihan

- 1 Memperbaiki jalan
- 2 Menambah armada transportasi
- 3 Menghentikan pengiriman
- 4 Menggunakan kendaraan yang layak
- 5 Menunda distribusi

Solusi Tepat

Bukan Solusi



Berpikir kritis, menemukan solusi, distribusi lancar, kehidupan sejahtera!





Tahukah Kamu?

Konsumsi adalah kegiatan menggunakan barang atau jasa untuk memenuhi kebutuhan hidup.

KEGIATAN 5

KONSUMSI



Tujuan:

Menganalisis hubungan harga dan konsumsi serta dampaknya bagi masyarakat.



STIMULUS

Di sebuah pasar tradisional, harga cabai mengalami kenaikan yang cukup tinggi akibat pasokan yang berkurang. Beberapa masyarakat tetap membeli cabai karena kebutuhan, tetapi sebagian lainnya mengurangi pembelian atau mengganti dengan bahan lain yang lebih murah.

1 Soal 1 – Isian Singkat (Analisis Hubungan Harga & Konsumsi)

Bagaimana hubungan antara kenaikan harga dengan tingkat konsumsi masyarakat?

Jawaban:



2 Soal 2 – Isian Singkat (Analisis Dampak)

Apa dampak kenaikan harga cabai terhadap masyarakat?

Jawaban:



3 Soal 3 – Pilihan Ganda

3 Jika harga suatu barang naik, maka biasanya konsumsi masyarakat akan:

- a. Meningkat
- b. Tetap
- c. Menurun
- d. Tidak berubah



4 Ketika harga cabai mahal, tindakan yang paling mungkin dilakukan masyarakat adalah:

- a. Membeli lebih banyak
- b. Mengurangi pembelian
- c. Menjual cabai
- d. Menyimpan cabai



5 Soal 5 – Drag & Drop (Dampak Konsumsi)

Instruksi: Seret pernyataan ke kolom yang sesuai!

Dampak Kenaikan Harga

Bukan Dampak



- 1 Barang menjadi rusak
- 2 Harga barang meningkat
- 3 Barang cepat sampai
- 4 Konsumen kesulitan mendapatkan barang
- 5 Distribusi berjalan lancar

6 Soal 6 – Drag & Drop (Solusi Distribusi)

Instruksi: Seret solusi yang tepat ke dalam kotak "Solusi Tepat"!

Pilihan

Solusi Tepat

Bukan Solusi

- 1 Memperbaiki jalan
- 2 Menambah armada transportasi
- 3 Menghentikan pengiriman
- 4 Menggunakan kendaraan yang layak
- 5 Menunda distribusi



7 Soal 7 – Isian Singkat (Refleksi)

Apa kesimpulan yang dapat kamu ambil tentang hubungan harga dan konsumsi?

Jawaban:





Tahukah Kamu?

Produksi, distribusi, dan konsumsi saling berkaitan untuk memenuhi kebutuhan manusia.

KEGIATAN 6


Ayo Berpikir Kritis!

ANALISIS HUBUNGAN KEGIATAN EKONOMI



Perhatikan alur kegiatan ekonomi berikut!

PRODUKSI



Petani menanam dan menghasilkan sayuran.

DISTRIBUSI



Sayuran diangkut dan disalurkan dari desa ke pasar atau kota.

KONSUMSI



Masyarakat membeli dan mengonsumsi sayuran untuk memenuhi kebutuhan sehari-hari.

1 Soal 1 – Short Answer

Analisis hubungan antara produksi, distribusi, dan konsumsi!

Jawaban:



2 Soal 2 – Short Answer

Apa yang terjadi jika distribusi terhambat? Jelaskan analisismu!

Jawaban:

DISTRIBUSI TERHAMBAT



DAMPAK

- Sayuran menjadi rusak dan tidak layak jual.
- Harga barang menjadi lebih mahal.
- Masyarakat kesulitan mendapatkan barang.

3 Soal 3 – True/False + Reason

"Jika produksi meningkat, maka konsumsi pasti meningkat."

Jawaban: (Benar / Salah)

Alasan:

PRODUKSI MENINGKAT



KONSUMSI ?



Pahami keterkaitan kegiatan ekonomi untuk kehidupan yang lebih baik!