

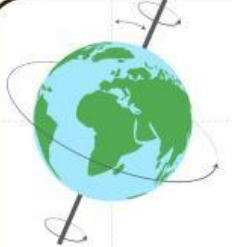
Nama:

no. absen:

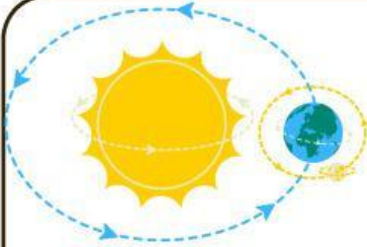
kelas:

ROTASI DAN REVOLUSI BUMI

pindahkan pilihan jawaban di bagian bawah sesuai dengan pernyataan yang benar mengenai rotasi dan revolusi bumi



Rotasi Bumi



Revolusi Bumi

bumi berputar di porosnya

lamanya adalah 365,25 hari

lamanya adalah 24 jam

pergantian siang dan malam

pergantian musim

menyebabkan gerak semu harian matahari

menyebabkan gerak semu tahunan matahari

perbedaan lamanya siang dan malam

perbedaan waktu di tiap daerah

bumi berputar mengelilingi matahari

FASE BULAN

pindahkan gambar fase bulan di bagian bawah dengan posisi yang benar!



berilah tanda centang untuk pernyataan yang benar mengenai akibat adanya revolusi bulan

pasang-surut air laut

bentuk tampak bulan berubah-ubah

melelehnya es di kutub

terjadi gerhana

pergantian arah angin

menentukan awal puasa


bumi mendekati matahari

terjadi bencana alam

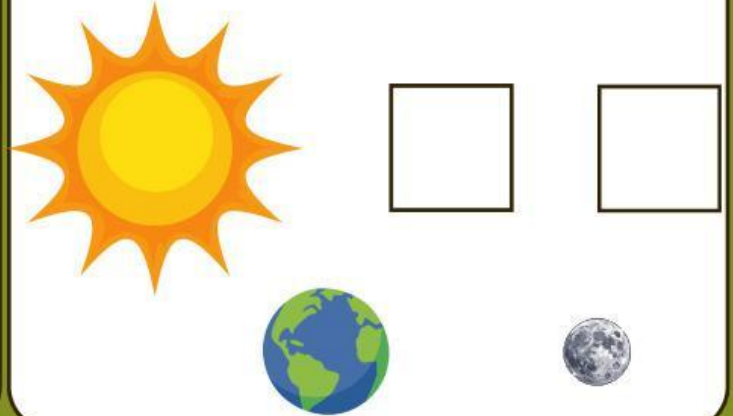
GERHANA

pindahkan posisi bumi dan bulan agar dapat membentuk gerhana yang benar

GERHANA MATAHARI



GERHANA BULAN



pilihlah jenis penampakan matahari dan bulan yang sesuai

