

Nama guru : SITI HADIJAH, S.Pd

MIN 13 Aceh Timur

NAMA :

KELAS :


NOMOR :

Tema 7 : Luas Permukaan suatu Bidang

1. Simaklah video berikut !

A. Pilihlah jawaban yang paling tepat.


1. Perhatikan gambar berikut.



Luas bidang di atas adalah....persegi satuan.




2.




Luas bidang diatas adalah....persegi satuan.






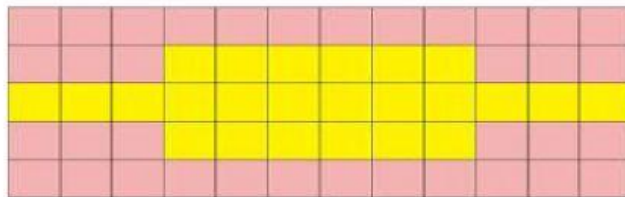
3. luas persegi diatas adalah....persegi satuan.



4. Luas persegi diatas adalah....persegi satuan.



5. Luas persegi diatas adalah.... Persegi satuan.



6. Luas bagian bangun yang berwarna kuning adalah....



7. Luas bangun diatas adalah....