


Самостоятельная работа по геометрии

Класс _____

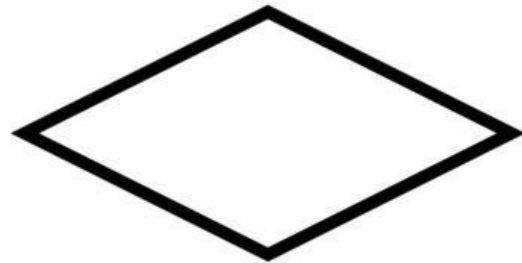
Ф.И.О. _____

Задание 1. Соедините название свойства с четырехугольником, которому оно присуще.

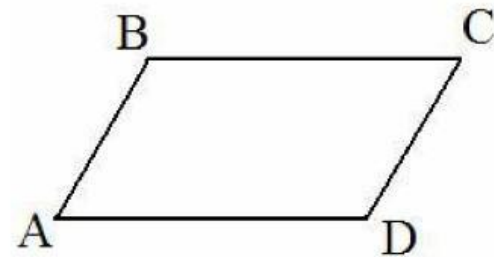
Диагонали равны



Диагонали перпендикулярны и являются биссектрисами углов



Диагонали точкой пересечения делятся пополам



Противоположные углы равны
Диагонали равны, перпендикулярны и являются биссектрисами



Задание 2. Отметьте верные утверждения.

- Любой ромб является квадратом.
- Любой квадрат является прямоугольником.
- У трапеции диагонали всегда равны.
- У параллелограмма противоположные углы равны.
- Прямоугольник — это частный случай ромба.