

Lembar Kerja Peserta Didik

LKPD

ILMU PENGETAHUAN ALAM

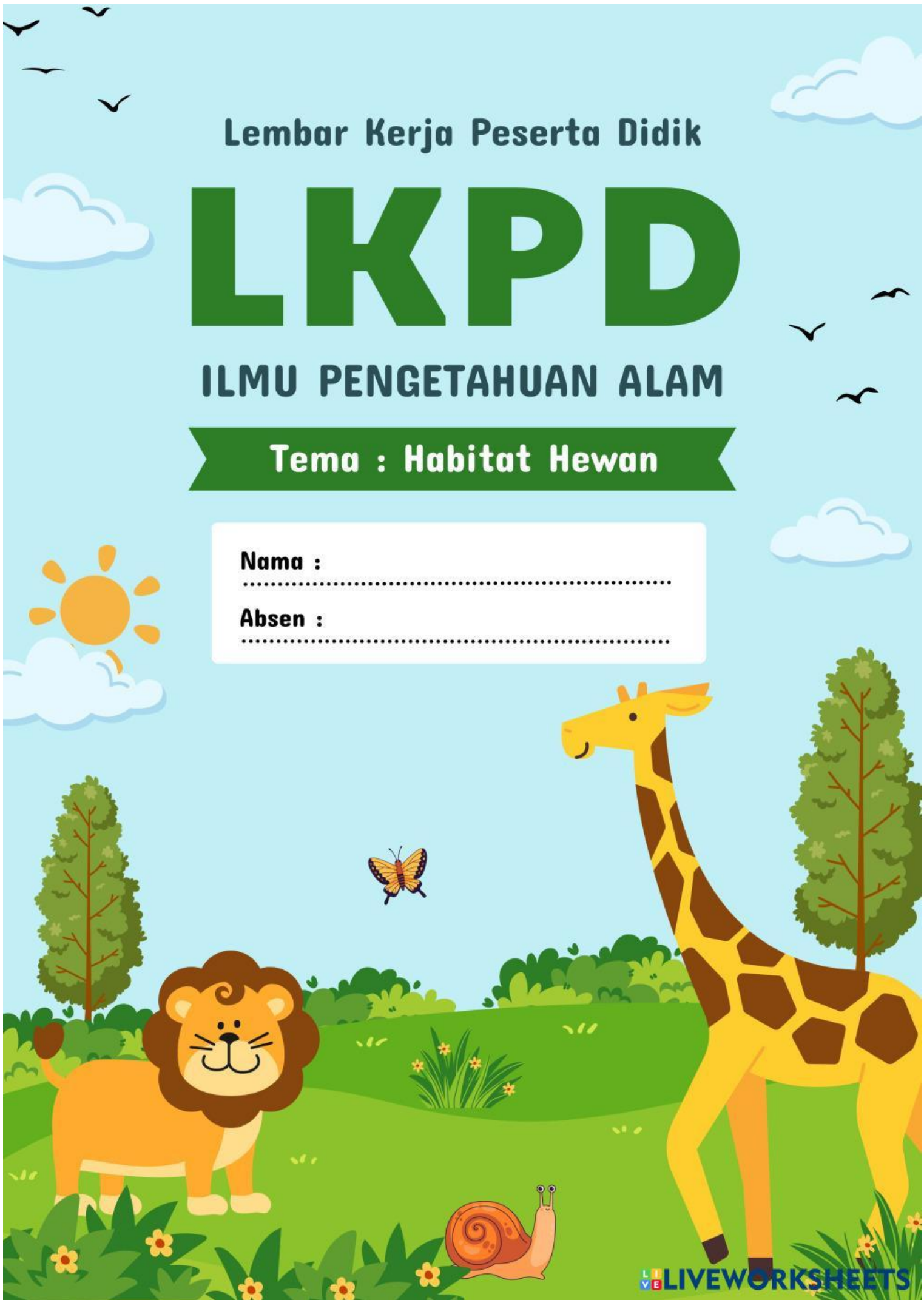
Tema : Habitat Hewan

Nama :

.....

Absen :

.....



SOAL BENAR DAN SALAH



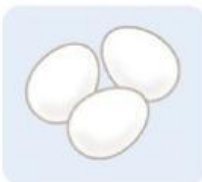
NAMA :

KELAS :



PETUNJUK :

Beri tanda untuk pernyataan yang benar dan untuk pernyataan yang salah.



Hewan yang berkembang biak dengan cara bertelur disebut vivipar.

BENAR

SALAH



Katak mengalami metamorfosis sempurna dalam perkembangbiakannya.

BENAR

SALAH



Burung dan ikan termasuk hewan yang berkembang biak dengan cara melahirkan.

BENAR

SALAH



Hewan yang berkembang biak dengan cara membelah diri disebut ovovivipar.

BENAR

SALAH



Kucing berkembang biak dengan cara melahirkan anaknya.

BENAR


SALAH

Nama:

Kelas:

MENCOCOKKAN GAMBAR

Lingkari hewan yang sama
seperti di kolom!





Nama:

Kelas:

MEMASANGKAN HEWAN DAN MANFAATNYA

Perhatikan gambar hewan di bawah ini, pasangkan dengan manfaat yang di dapatkan dari hewan tersebut.



Tebak Tempat Tinggal Binatang,
kemudian beri tanda centang (✓) untuk jawabannya.

Dimana Tempat
Tinggal Ikan?



Air

Pohon

Tanah

Dimana Tempat
Tinggal Ayam?



Kandang

Kolam

Awan

Dimana Tempat
Tinggal Burung?



Sangkar

Kolam

Gua

Dimana Tempat
Tinggal Kuda?



Rumah

Sangkar

Kandang

Dimana Tempat
Tinggal Kelinci?



Lubang
di tanah

Air

Udara

Dimana Tempat
Tinggal Ular?

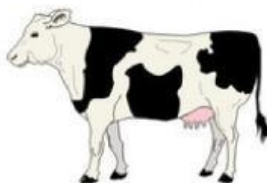


Lubang
di tanah

Kolam

Gubuk

Dimana Tempat
Tinggal Sapi?



Laut

Kandang

Sarang

Dimana Tempat
Tinggal Katak?



Gua

Kolam

Pohon