

The background of the page is a colorful illustration of a school. In the foreground, a young girl wearing a white hijab with a red border, a white long-sleeved shirt, and a red skirt is smiling and waving. She has a green backpack on her back. To her left is a tall flagpole with the Indonesian flag (red and white) flying. In the background, there is a school building with a red roof and several windows. To the right, there are green trees and a yellow fence. The sky is blue with white clouds.

Lembar Kerja Peserta Didik

MATEMATIKA

Untuk Siswa Kelas 4 SD/MI

Nama: _____

Kelas : _____

Lembar Kerja Peserta Didik

A. Tujuan Kegiatan

1. Mendeskripsikan ciri berbagai bangun datar dengan benar.
2. Mengidentifikasi jumlah sisi dan sudut pada bangun datar yang dibuat melalui diskusi kelompok.

B. Petunjuk Kerja

1. Amatilah contoh bangun datar yang ditunjukkan guru atau benda-benda di sekitarmu dengan teliti.
2. Diskusikan bersama kelompok mengenai nama, jumlah sisi, dan jumlah sudut pada setiap bangun datar yang diamati.
3. Kelompokkan benda-benda di sekitarmu berdasarkan bentuk bangun datarnya, lalu tuliskan hasilnya pada tabel yang tersedia.
4. Analisislah sifat-sifat bangun datar yang telah diamati, kemudian jawablah pertanyaan pada LKPD sesuai hasil diskusi kelompok.
5. Presentasikan hasil diskusi kelompokmu di depan kelas dan dengarkan tanggapan dari kelompok lain.

C. Kegiatan

Kegiatan 1 – Ayo Mengamati

Amatilah contoh bangun datar yang ditunjukkan oleh guru atau benda di sekitarmu. Diskusikan bersama kelompok:

1. Bangun datar apa saja yang pernah kamu lihat di lingkungan sekitar?

Jawaban:

.....
.....
.....
.....
.....
.....

2. Menurut pendapatmu, apa yang dimaksud dengan sisi dan sudut?







Tuliskan hasil diskusi kelompokmu:

.....
.....
.....
.....
.....

Lembar Kerja Peserta Didik

Kegiatan 2 - Ayo Mengelompokkan Bentuk Disekitarmu!

Amatilah benda-benda disekitarmu!
Kelompokkan benda-benda tersebut berdasarkan bentuknya, lalu tuliskan pada tabel di bawah ini !

Bentuk	Contoh Benda di Sekitar
Lingkaran 	
Persegi 	
Persegi Panjang 	
Segitiga 	
Trapesium 	
Segienam 	

Lembar Kerja Peserta Didik

Kegiatan 3 – Ayo Menganalisis

Analisislah bangun datar yang telah dibuat kelompokmu, lalu jawablah tabel di bawah ini!

No	Nama bangun datar	Jumlah sisi	Jumlah sudut

Pertanyaan Diskusi Kelompok

1. Bangun datar apa yang paling menarik menurut kelompokmu? Mengapa?

Jawaban:

.....
.....
.....
.....

2. Apa yang dapat kalian simpulkan tentang hubungan antara jumlah sisi dan jumlah sudut pada bangun datar?

Jawaban:

.....
.....
.....
.....