



SUMATIF HARIAN SEMESTER GENAP TAHUN AJARAN 2025/2026





PESAWAT SEDERHANA

Nama : .....	Mata Pelajaran : IPA	Paraf	Nilai
Hari/Tgl : .....	Kelas : VIII		





Jawablah soal-soal dibawah ini dengan tepat!

A. Pilihan Ganda



1. Gunting merupakan salah satu contoh tuas jenis pertama, berikut yang merupakan gambar gunting adalah....

A 	B 
C 	D 

2. Pemecah kemiri merupakan salah satu contoh tuas jenis kedua, berikut yang merupakan gambar pemecah kemiri adalah....

A	B
	
C	D
	

3. Sekop pasir merupakan salah satu contoh tuas jenis ketiga, berikut yang merupakan gambar sekop pasir adalah....

A	B
	



**B. Pilihan Ganda Kompleks (Jawaban Lebih dari Satu)**

4. Perhatikan gambar dibawah ini.

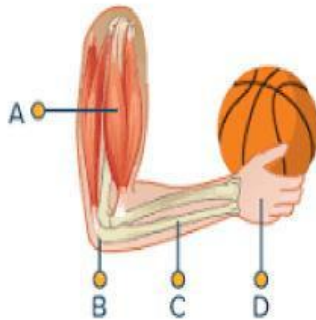


Berilah tanda centang (✓) pada pernyataan yang benar tentang gambar di atas.

- Gerobak diatas merupakan contoh tuas jenis kedua
- Titik tumpu pada gerobak diatas ada pada bagian tengah
- Gerobak diatas merupakan contoh tuas jenis pertama
- Titik beban pada gerobak diatas ada pada bagian tengah
- Gunting memiliki prinsip kerja tuas yang sama dengan tang diatas

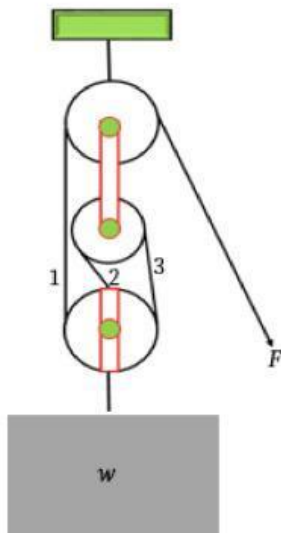
### C. Soal Isian Singkat

5. Perhatikan gambar dibawah ini



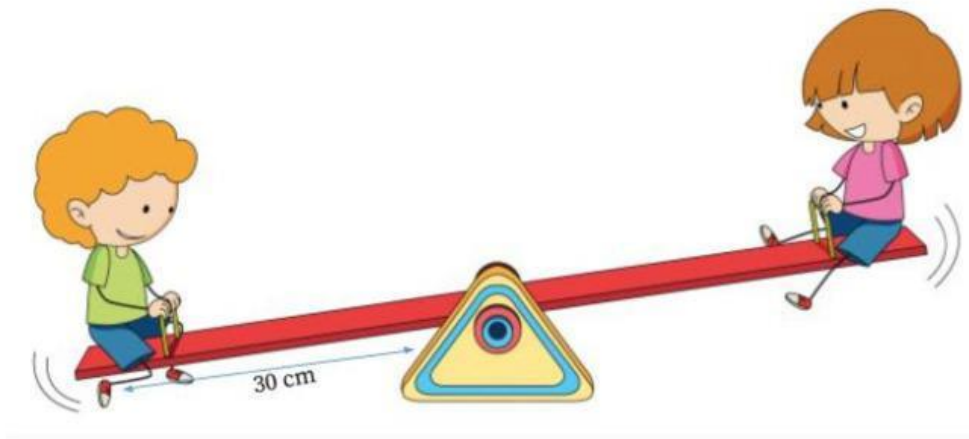
Sesuai gambar lengan manusia disamping, titik tumpu terletak pada huruf ....

6. Perhatikan gambar dibawah ini



Gambar disamping merupakan contoh pesawat sederhana yang digunakan untuk mengangkat benda, nama gambar disamping adalah ....

7. Andi dan Nada bermain seperti gambar dibawah ini



Gambar diatas merupakan salah satu contoh tuas jenis pertama, nama alat yang digunakan Andi dan Nada adalah....



**MAN JADDA WA JADA**  
BARANG SIAPA YANG BERSUNGGUH-SUNGGUH,  
MAKA DIA AKAN BERHASIL.