

Lembar Kerja Peserta Didik

LKPD

MATEMATIKA

PIKTOGRAM




Nama :

Kelas :

Data penjualan kue selama seminggu.



Tarik gambar kue dan letakkan pada diagram gambar!



Bulan	Jumlah Penjualan
Senin	45
Selasa	25
Rabu	30
Kamis	35
Jum'at	50
Sabtu	40
Minggu	20




Diagram gambar penjualan kue selama seminggu.

Hari	Jumlah Penjualan
Senin	
Selasa	
Rabu	
Kamis	
Jum'at	
Sabtu	
Minggu	

Keterangan :  = 10 kue  = 5 kue

Perhatikan piktoqram berikut:

Hasil Panen Pak Santo

Nama Sayur	Banyaknya Sayur
Kol	
Terong	
Tomat	
Cabai	

Keterangan: 1 gambar mewakili 3 sayur


1. Berapa jumlah seluruh sayur yang dipanen?
2. Berapa jumlah terong yang dipanen?
3. Sayur apa yang paling sedikit?
4. Sayur apa yang paling banyak?
5. Berapa jumlah selisih antara sayur terong dan tomat?



Ayo Eksplorasi




Perhatikan Piktogram Penjualan Buah di Pasar. Kemudian Jawablah Pertanyaan Berdasarkan Data Tersebut



llll

Keterangan :

 = Mewakili 3 kg

1. Berapa banyak buah yang terjual pada bulan Februari
2. Buah terjual paling banyak pada bulan apa?
3. Berapa banyak buah yang terjual mulai bulan Januari - Maret?
4. Berapa selisih buah yang terjual pada bulan Mei - Juni?
5. Buah terjual paling sedikit pada bulan apa?

llll

2 3 4

2 3