



Kurikulum
Merdeka



LKPD

PIKTOGRAM & DIAGRAM BATANG



Nama :
No. Absen :


KELAS 4

2 3 4

2 3 4



Ayo Rumuskan



Perhatikan cerita berikut !



CV Sejahtera adalah sebuah usaha peternakan yang menjual kambing untuk keperluan kurban selama bulan Dzulhijjah. Pada pekan pertama bulan Dzulhijjah, mereka mencatat jumlah kambing yang terjual setiap harinya untuk memantau perkembangan penjualan dan memastikan stok tetap mencukupi. Berikut adalah data penjualan kambing CV Sejahtera selama pekan pertama bulan Dzulhijjah.

Hari	Jumlah Kambing yang Terjual
Senin	20
Selasa	40
Rabu	15
Kamis	30
Jum'at	60
Sabtu	80
Ahad	75



2 3 4

2 3 4



Ayo Rumuskan


Ubahlah tabel tersebut menjadi diagram gambar yang tepat dengan memindahkan data yang sesuai di kotak kosong berwarna hitam. (🐐 mewakili 10)

Hari	Jumlah Kambing yang Terjual

llll

llll

Tarik dan lepaskan jawaban dibawah ini, kemudian tempel pada tabel yang sudah di sediakan!



Rabu Kamis Senin Ahad


Jum'at Selasa Sabtu

2 3 4

2 3 4



Ayo Eksplorasi




Perhatikan Piktogram Penjualan Buah di Pasar. Kemudian Jawablah Pertanyaan Berdasarkan Data Tersebut



llll

Keterangan :


 = Mewakili 3 kg

1. Berapa banyak buah yang terjual pada bulan Februari
2. Buah terjual paling banyak pada bulan apa?
3. Berapa banyak buah yang terjual mulai bulan Januari - Maret?
4. Berapa selisih buah yang terjual pada bulan Mei - Juni?
5. Buah terjual paling sedikit pada bulan apa?

llll

2 3 4

2 3




Ayo Eksplorasi

DATA SISWA-SISWI MI BI'RUL ULUM Gemurung Gedongan Sidoarjo

Kelas	Jumlah Siswa
Kelas 1	10
Kelas 2	15
Kelas 3	8
Kelas 4	7
Kelas 5	12
Kelas 6	18

Keterangan :

 = Mewakili 5 orang

Jawablah pertanyaan berikut dengan mencocokkan jawaban yang benar berdasarkan data di atas !

Berapa jumlah siswa-siswi MI BI'RUL ULUM?

Tiga

Berapa jumlah siswa-siswi kelas 4 di MI BI'RUL ULUM?

Tiga Puluh

Jumlah siswa paling sedikit ada di kelas berapa?

Tiga Puluh Lima

Berapa selisih antara kelas 2 dan kelas 4?

Dua

Jumlah siswa terbanyak ada di kelas berapa?


Dua Ratus Tujuh Puluh Lima

eee

eee



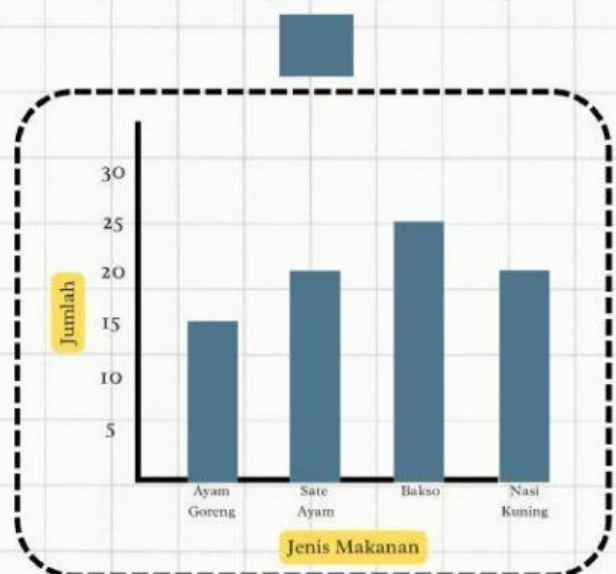
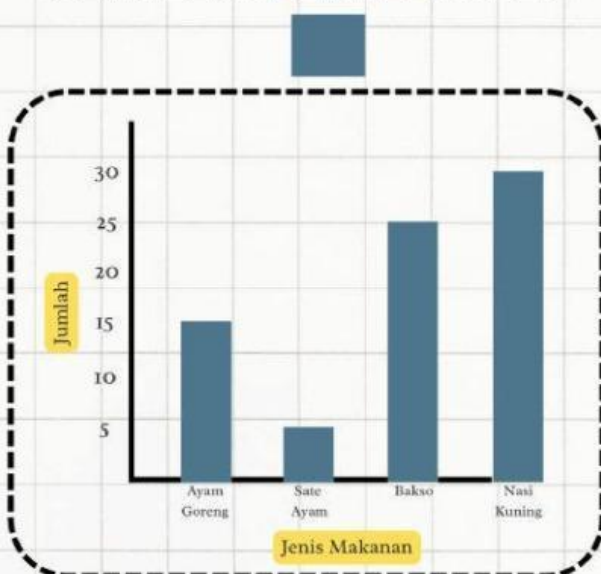
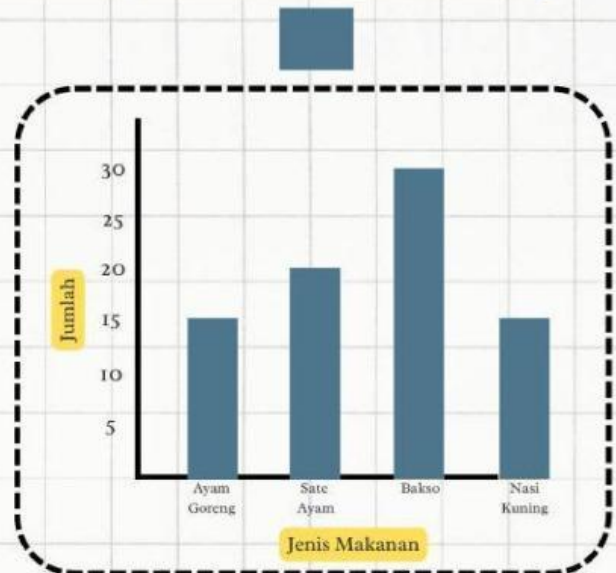
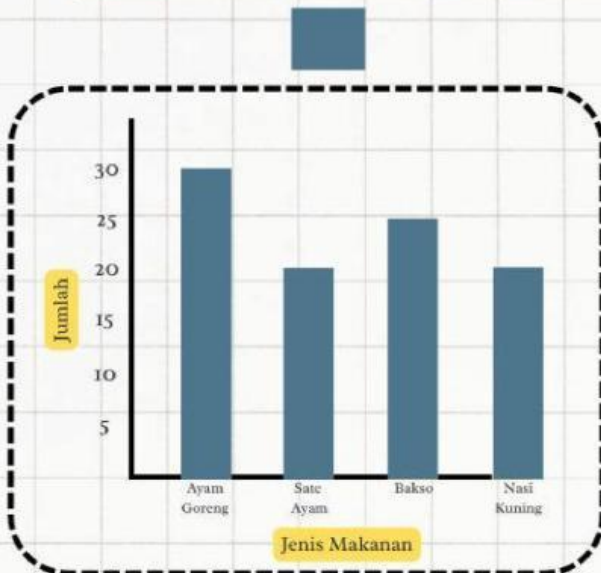
Ayo Eksplorasi




Perhatikan data berikut !

Jenis Makanan	Jumlah Siswa
Ayam Goreng	15
Sate Ayam	20
Bakso	25
Nasi Kuning	20

Manakah diagram batang yang sesuai untuk merepresentasikan data tersebut !



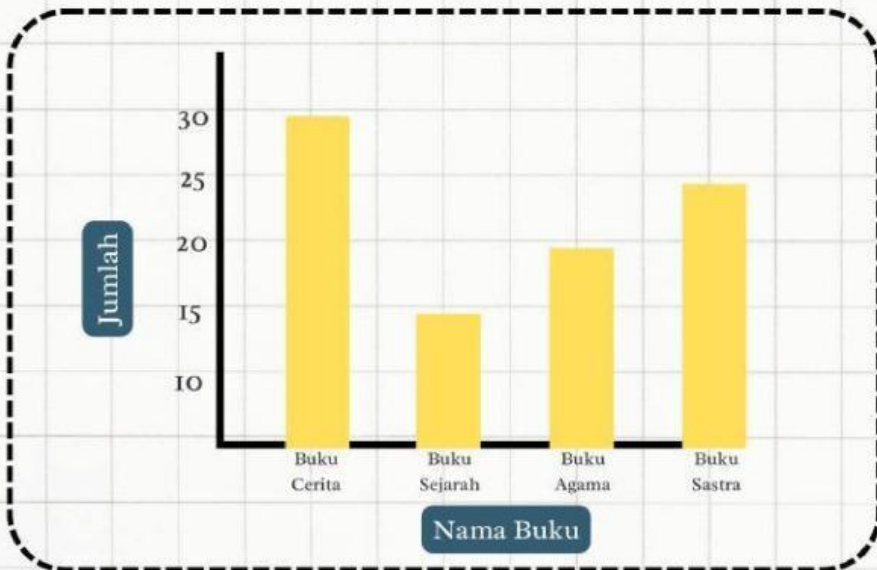


Perhatikan cerita berikut !



Arum adalah seorang petugas perpustakaan di sebuah sekolah. Ia ingin mengetahui jumlah buku yang dibaca oleh para pengunjung perpustakaan. Untuk itu, Arum mencatat jumlah buku yang dipinjam dan membuat diagram batang untuk memvisualisasikan data tersebut.

Berikut adalah diagram batang yang menunjukkan jumlah buku yang dibaca oleh pengunjung perpustakaan.



Dari diagram batang tersebut jawablah pertanyaan di bawah ini dengan benar !

Berapa jumlah siswa yang gemar membaca buku agama?

Tiga Puluh

Dua Puluh Lima

Dua Puluh

Lima Belas

Buku apa yang paling banyak diminati anak-anak?

Buku Cerita

Buku Sejarah

Buku Agama

Buku Sastra

Buku apa yang saling diminati?

Buku Cerita

Buku Sejarah

Buku Agama

Buku Sastra

Berapa jumlah seluruh siswa yang gemar membaca buku?

30

25

90

20

Berapa selisih jumlah siswa yang gemar membaca buku sastra dan agama?

20

10

25

5

254