

LKPD

PENDIDIKAN PANCASILA

KELAS 5 SEKOLAH DASAR





TUJUAN PEMBELAJARAN

- Siswa mampu menyebutkan rumah adat di Indonesia
- Siswa mampu menjelaskan macam-macam rumah adat daerah di Indonesia





MATERI PEMBELAJARAN

Indonesia adalah negara yang sangat kaya akan budaya. Salah satu bentuk keragaman budayanya adalah rumah adat. Setiap daerah di Indonesia memiliki rumah adat yang berbeda-beda. Rumah adat biasanya disesuaikan dengan iklim daerah, lingkungan alam, kebiasaan dan budaya masyarakat setempat. Manfaat rumah adat adalah menjadi identitas daerah, melestarikan budaya, menarik wisatawan.





MATERI PEMBELAJARAN

Contoh rumah adat
di Indonesia:

1. Rumah gadang (sumatra barat)



2. Rumah joglo (jawa tengah)



3. Rumah krong bade aceh)





MATERI PEMBELAJARAN

4. Rumah bolon (sumatra utara)



5. Rumah kebaya (DKI Jakarta)



6. Rumah honai (papua)





MATERI PEMBELAJARAN

7. Rumah tongkonan (sulawesi selatan)



8. Rumah limas (sumatra selatan)





Alat dan Bahan






Bisa diakses menggunakan

1. Handphone
2. Laptop
3. Komputer
4. Proyektor
5. Tv Digital





MENJODOHKAN RUMAH ADAT





Mengenal Rumah Adat di Nusantara

Petunjuk: Pilihlah jawaban yang paling tepat !



- A. Sumatera Barat
- B. Sulawesi Selatan
- C. Bali



- A. Jawa Tengah
- B. Aceh
- C. Nusa Tenggara Timur



- A. Minangkabau
- B. Betawri
- C. Dayak



- A. Bambu dan daun rancing
- B. Kayu dan batang
- C. Batu dan kayu





MACAM RUMAH ADAT DI INDONESIA

Tuliskan nama dari rumah adat dan asal daerahnya



Nama Rumah Adat:

Asal Daerah:



Nama Rumah Adat:

Asal Daerah:



Nama Rumah Adat:

Asal Daerah:



Nama Rumah Adat:

Asal Daerah:





Menebak Rumah Adat

Perhatikan pernyataan dibawah ini apakah benar atau salah !



Ini Rumah Gadang

BENAR / SALAH



Ini Rumah Joglo

BENAR / SALAH



Ini Rumah Bolon

BENAR / SALAH



Ini Rumah Tongkonan

BENAR / SALAH



Ini Rumah Kebaya

BENAR / SALAH




Ini Rumah Bolon

BENAR / SALAH





TEKA-TEKI SILANG RUMAH ADAT



MENDATAR

1. Rumah adat yang berasal dari Jawa Tengah?
2. Rumah adat yang berasal dari Sulawesi Selatan?
4. Rumah adat yang berasal dari Papua?
6. Rumah adat yang berasal dari sumatra selatan?

MENURUN

3. Rumah adat yang berasal dari sumba?
5. Rumah adat yang berasal dari Sumatra Utara?
7. Rumah adat yang berasal dari DKI Jakarta?





KESIMPULAN

Setelah melakukan beberapa kegiatan, tuliskan kesimpulanmu tentang rumah adat di nusantara.

.....

.....

.....

.....

.....

.....

.....

