


**Doplň tabulku následujícími zástupci měkkýšů:**

Sépie obecná, Slimáček polní, Srdcovka jedlá, Krakatice, Ostranka jaderská, Škeble rybničná, Chobotnice pobřežní, Oliheň, Perlotvorka mořská, Zavinutec tygrovaný, Slávka jedlá, Okružák ploský


Mlži	Plži	Hlavonožci

**Roztříd' uvedené plže:**


Slimáček polní, Přílepka, Plovatka bahenní, Zavinutec tygrovaný, Hlemýžď zahradní, Ostranka jaderská, Okružák ploský, Homolice, Páskovka keřová, Bahenka živorodá.



Souše



Sladká voda



Moře

## ÚKOL Č. 2:

Rozlušti přesmyčky:

LTAVAPOK ..... Ř E N B H E A K T .....

IKSÁMLEČ ..... CKARITEAK .....

OPLREKRVOAT ..... NIVECAZUT .....

Vyber správnou odpověď:

1. Proč jsou hlavonožci považováni za nejdokonalejší měkkýše?
  - a. Mají uzavřenou cévní soustavu
  - b. Rychleji se pohybují díky chapadel
  - c. Mají již vyvinutý mozek a oko
2. Kteří hlavonožci mají ještě zachovanou schránku?
  - a. Krakatice
  - b. Oliheň
  - c. Sépie obecná
  - d. Loděnka hlubinná
3. Kteří mlži jsou schopni vytvořit ve svých lasturách ušlechtilé perly využívané v klenotnictví?
  - a. Ústřice jedlá
  - b. Perlorodka mořská
  - c. Srdcovka jedlá
  - d. Hřebenatka
4. Kteří měkkýši obývají souš, moře i sladkou vodu?
  - a. Plži
  - b. Hlavonožci
  - c. Mlži
  - d. Srži
5. Čím dýchají mlži a hlavonožci?
  - a. Plícemi
  - b. Vzdušnicemi
  - c. Žábry
  - d. Plícními vaky