


Заняття № 32 «Число 10. Геометричні фігури»

Пригадай казочку про козеня, яке вміє рахувати до 10.
Яких тварин рахувало козеня?


Хто був першим? Другим? Скільки всього було тварин?
Познач кожну тварину відповідною цифрою.



Хто був за Свинею? Між Собакою і Півнем?

Скільки тварин ми пронумерували? Хто залишився?

Зафарбуй червоним стільки трикутників, скільки тварин у казці ми пронумерували, і стільки жовтим, скільки залишилося не пронумерованих.

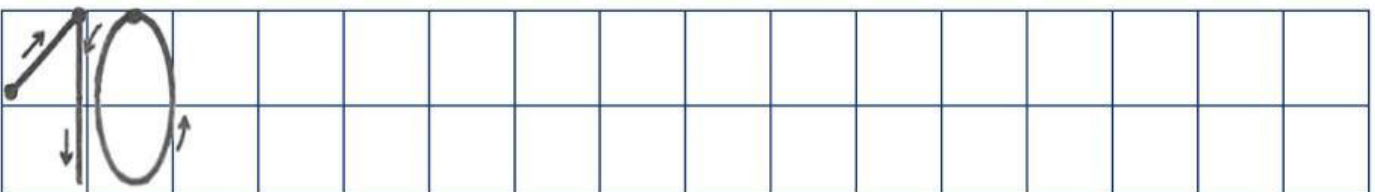
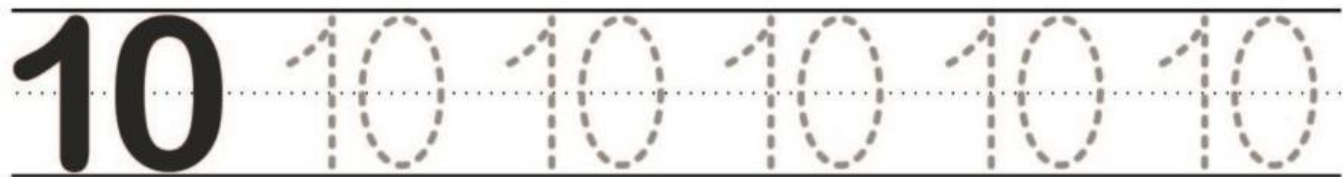


Скільки червоних трикутників? Жовтих? Всього?
Як утворилося число 10?

Перше число зафарбуй кольоровими олівцями
В другому – проведи по лінії, та розглянь як пишеться



Потренуйся писати число 10 – спочатку по крапочках, а потім самостійно в двох клітинках



Розфарбуй фігури різним кольором так, щоб квадрат лежав зверху

