

LKPD

MATEMATIKA

Kelas 6 Sekolah Dasar








Nama:

kelas :

BANGUN DATAR

Lengkapilah tabel bangun datar berikut!

Bangun Datar	Nama Bangun Datar	Banyak Sisi	Banyak Sudut
			
			
			
			
			

Ciri-ciri Bangun Datar


Tariklah garis untuk menghubungkan bangun datar dengan ciri-cirinya dengan tepat dan benar!



Memiliki 5 sisi



Memiliki 3 sisi



Memiliki satu kurva atau garis lengkung



Memiliki 4 sisi



Memiliki 6 sisi

BANGUN DATAR

Berikan tanda centang pada jawaban di bawah ini!



1 Bangun datar yang memiliki 4 sisi sama panjang adalah ...

- | | |
|-------------------|-------------|
| a Persegi panjang | c Segitiga |
| b Persegi | d Lingkaran |

2 Bangun datar yang memiliki 3 sisi adalah ...

- | | |
|------------|-------------|
| a Segitiga | c Trapesium |
| b Persegi | d Lingkaran |

3 Di bawah ini manakah yang termasuk rumus luas persegi?

- | | |
|----------------|-----------------------------------|
| a $s \times s$ | c $\frac{1}{2} \times a \times t$ |
| b $p \times l$ | d $\pi \times r^2$ |

4 Bangun datar yang berbentuk bulat disebut ...

- | | |
|-----------------|-------------|
| a Layang-layang | c Segitiga |
| b Persegi | d Lingkaran |