

NAMA

TANGGAL

KELAS

SCORE



Ekologi & Keanekaragaman Hayati




Tentukan manakah yang merupakan biotik dan abiotik!



Klasifikasikan setiap makhluk hidup ke tempatnya masing-masing. Tuliskan produsen, konsumen, atau dekomposer pada tempat yang tersedia!





Ekologi & Keanekaragaman Hayati



Buatlah garis pada pasangan gambar dengan istilah yang tepat!




Komunitas


Populasi

Individu

Ekosistem

Tuliskan jenis ekosistem berikut! (Alami atau buatan)





Ekologi & Keanekaragaman Hayati



Tentukan jenis interaksi pada gambar berikut!



simbiosis komensalisme

simbiosis mutualisme

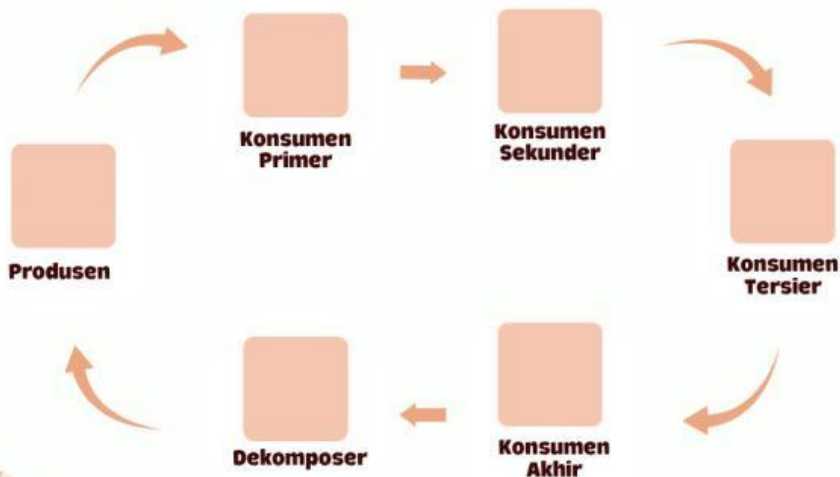
simbiosis parasitisme


Predator

Kompetisi

Netral

Tentukan organisme pada rantai makanan berikut!

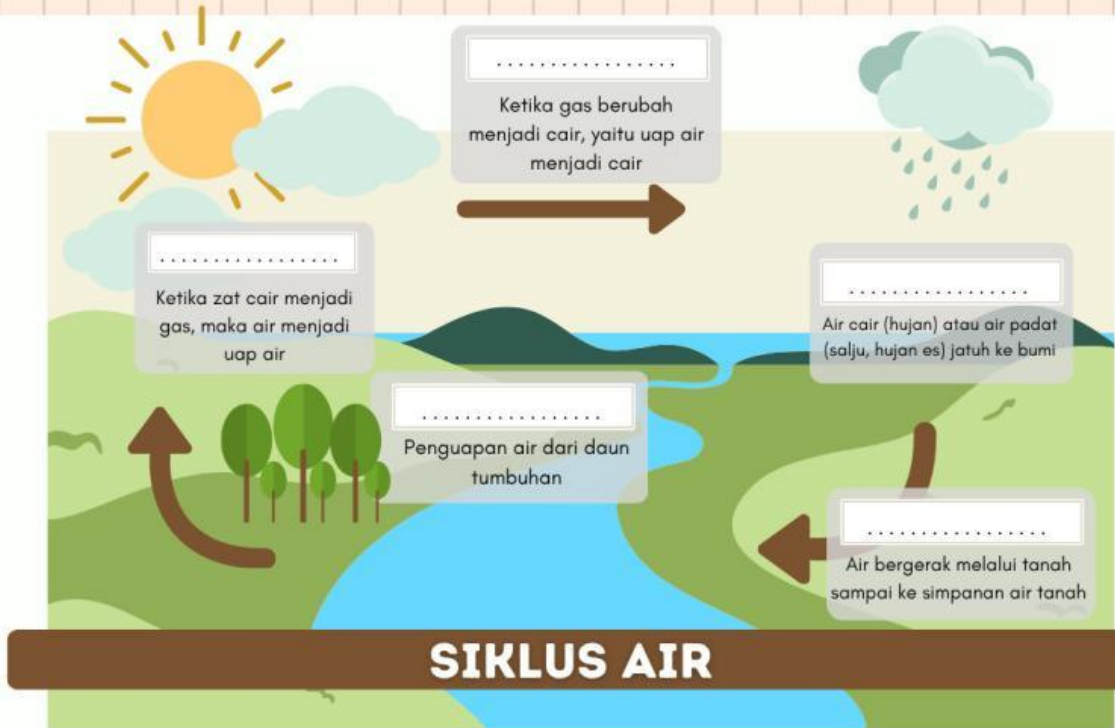




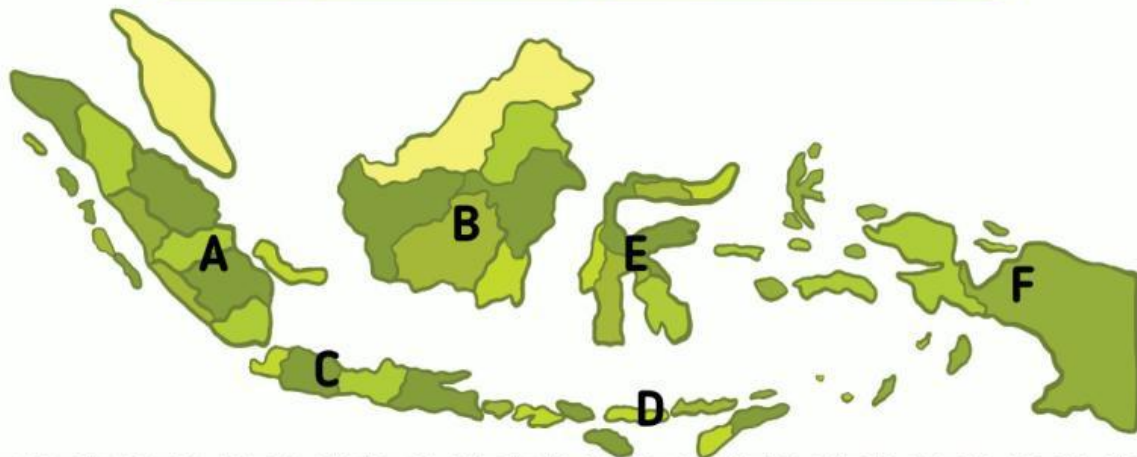
Ekologi & Keanekaragaman Hayati









Lengkapi proses siklus air berikut!



Pasangkan fauna dengan daerah asalnya!



	<input type="text"/>		<input type="text"/>		<input type="text"/>
	<input type="text"/>		<input type="text"/>		<input type="text"/>

