


Lembar kerja peserta didik

BELAJAR SUDUT MELALUI PRAKTIK GERAKAN

Petunjuk:

1. Gunakan tangan atau benda di sekitar untuk membentuk sudut.
 2. Ukur besar sudut dengan busur derajat.
 3. Tuliskan hasilnya.
- 

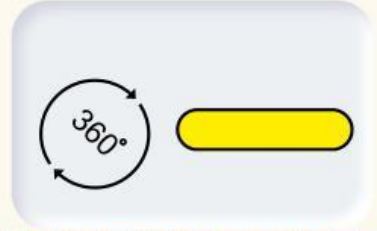
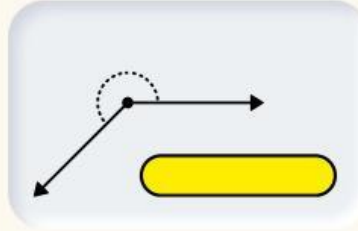
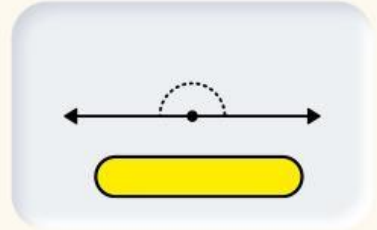
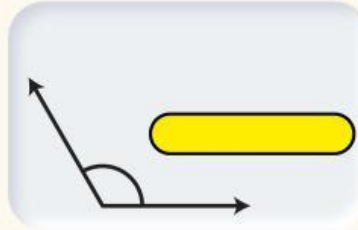
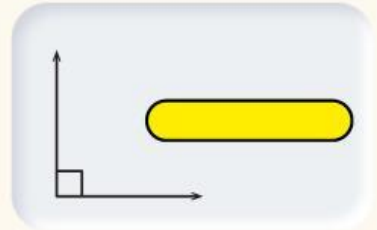
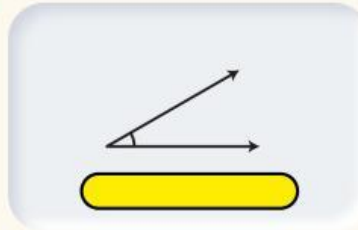


 **LIVEWORKSHEETS**



2. Bentuk sudut

AMATILAH VIDEO BERIKUT DAN ISILAH
NAMA SUDUT PADA GAMBAR



TUGAS PRAKTIK

1) Bentuk sudut lancip menggunakan kedua tangan

Perkiraan besar sudut:





TUGAS PRAKTIK

2) Bentuk sudut siku-siku menggunakan kedua tangan

Perkiraan besar sudut:



TUGAS PRAKTIK

3) Bentuk sudut tumpul menggunakan kedua tangan

Perkiraan besar sudut:





TUGAS PRAKTIK

4) Bentuk sudut berpelurus menggunakan kedua tangan

Perkiraan besar sudut:





Carilah 2 benda di kelas yang membentuk sudut

	Nama benda	Jenis sudut
1)	<input type="text"/>	<input type="text"/>
2)	<input type="text"/>	<input type="text"/>

Kesimpulan tentang sudut yang kamu pelajari :