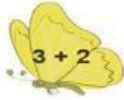









5

Bướm sẽ đậu vào bông hoa có số là kết quả phép tính trên cánh bướm.



Mỗi bông hoa có bao nhiêu bướm sẽ đậu?

Tên bông hoa					
Số bướm đậu	1				