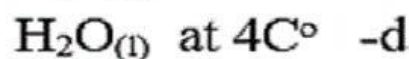
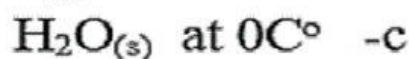
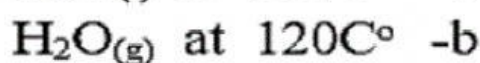
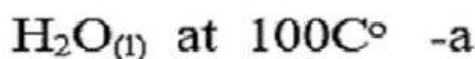


## تدريبات الهدف 2

أي مما يلي الأعلى في الإنتروبي؟



أي من التالي سيكون أقل، عشوائية؟



أي مما يلي له قيمة إنتروبي أعلى؟

A- 1 مول من  $NH_3$  عند ضغط 1 atm

B- 1 مول من  $NH_3$  عند ضغط 2 atm

C- 1 مول من  $NH_3$  عند ضغط 1.5 atm

D- 1 مول من  $NH_3$  عند ضغط 0.2 atm

أي مما يلي له قيمة إنتروبي أعلى؟

A- 100 مل  $H_2O$  عند درجة حرارة 35 مئوية

B- 100 مل  $H_2O$  عند درجة حرارة 60 مئوية

C- 100 مل  $H_2O$  عند درجة حرارة 10 مئوية

D- 100 مل  $H_2O$  عند درجة حرارة 40 مئوية