

LKPD

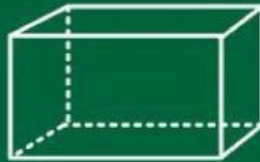
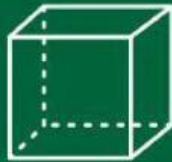
Matematika

Tema:

jaring-jaring bangun
ruang



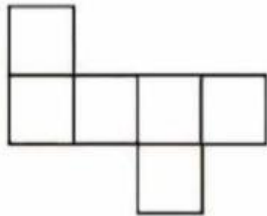
Bangun Ruang



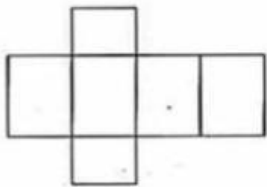
Nama: _____

Kelas: _____

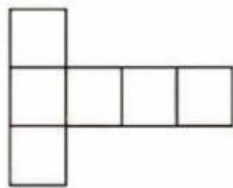
pasangkan gambar dengan kolom sesuai pasangan jaring-jaring bangun ruang!!!!



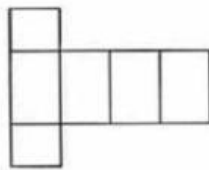
Kubus



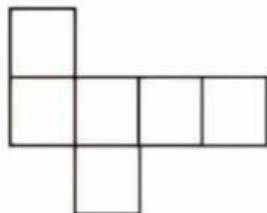
Kubus



Balok



Kubus



Balok

Centanglah pertanyaan yang benar!!!

- Jaring kubus atau balok harus dapat dilipat tanpa ada sisi yang saling tumpang-tindih.
- Jaring harus menampilkan semua sisi bangun ruang.
- Jika satu sisi hilang, tetap bisa disebut jaring kubus.
- Letak sisi tidak berpengaruh dalam jaring.
- Jaring balok terdiri dari 6 sisi.
- Jaring balok bisa dibentuk dari 6 persegi.
- Semua jaring balok memiliki bentuk yang sama.
- Pasangan sisi berhadapan pada jaring balok harus sama besar.

