

Тапсырмалар

1. Егер $3x + 5 = 20$ болса, x мәні:

- A) 3
- B) 5
- C) 7
- D) 10

2. Қатар: 2, 6, 18, 54, ... келесі сан қандай?

- A) 72
- B) 108
- C) 162
- D) 216

3. 5 адам бір-бірімен қол алысса, неше қол алысу болады?

- A) 5
- B) 10
- C) 15
- D) 20

4. Барлық тақ сандар жай сан.

Жауабы:

5. Егер $a > b$, онда $a + c > b + c$.

Жауабы:

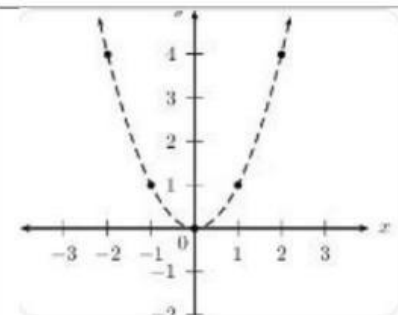
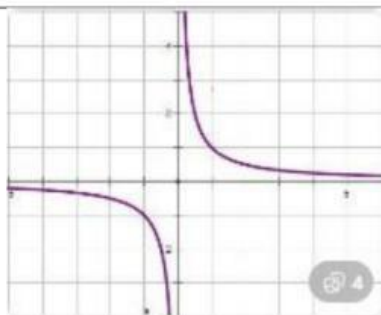
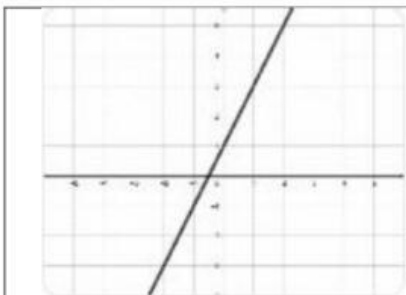
6. Үшбұрыштың бұрыштарының қосындысы 180° .

Жауабы:

7. Сәйкестендіріңіз

| Тізбектер | Заңдылық |
|----------------|---|
| 2,4,6,8 | Әр сан 2-ге көбейеді |
| 1,1,2,3,5,8... | Әр санға 2 қосылады |
| 5,10,20,40 | Әрбір келесі сан алдыңғы екі санның қосындысы |

8. Дұрыс жауапты сәйкестендіріңіз



$y = x^2$

$y = 2x + 1$

$y = \frac{1}{x}$