

# EVALUASI MATEMATIKA

PENGUKURAN PANJANG BENDA



Nama:

## SOAL EVALUASI MATEMATIKA

### BAB 3 PENGUKURAN PANJANG BENDA

#### A. Pilihlah jawaban yang paling benar!



1. Pensil A lebih panjang dari pensil B. Maka pensil B adalah ...

- a. lebih panjang
- b. lebih pendek
- c. sama panjang

2. Benda yang paling panjang adalah ...

- a. penghapus
- b. pensil
- c. penggaris



3. Jika tali A lebih pendek dari tali B, maka tali B ...

- a. lebih pendek
- b. lebih panjang
- c. sama panjang



4. Urutan dari yang paling pendek adalah

- a. penghapus – buku – meja
- b. meja – penghapus – buku
- c. buku – meja – penghapus






5. Alat untuk mengukur panjang adalah ...

- a. timbangan
- b. penggaris
- c. jam

6. a. pendek

- b. panjang
- c. kecil



7. Urutan yang benar dari paling panjang adalah ...

- a. penggaris – krayon – penghapus
- b. penghapus – penggaris – krayon
- c. krayon – penghapus – penggaris

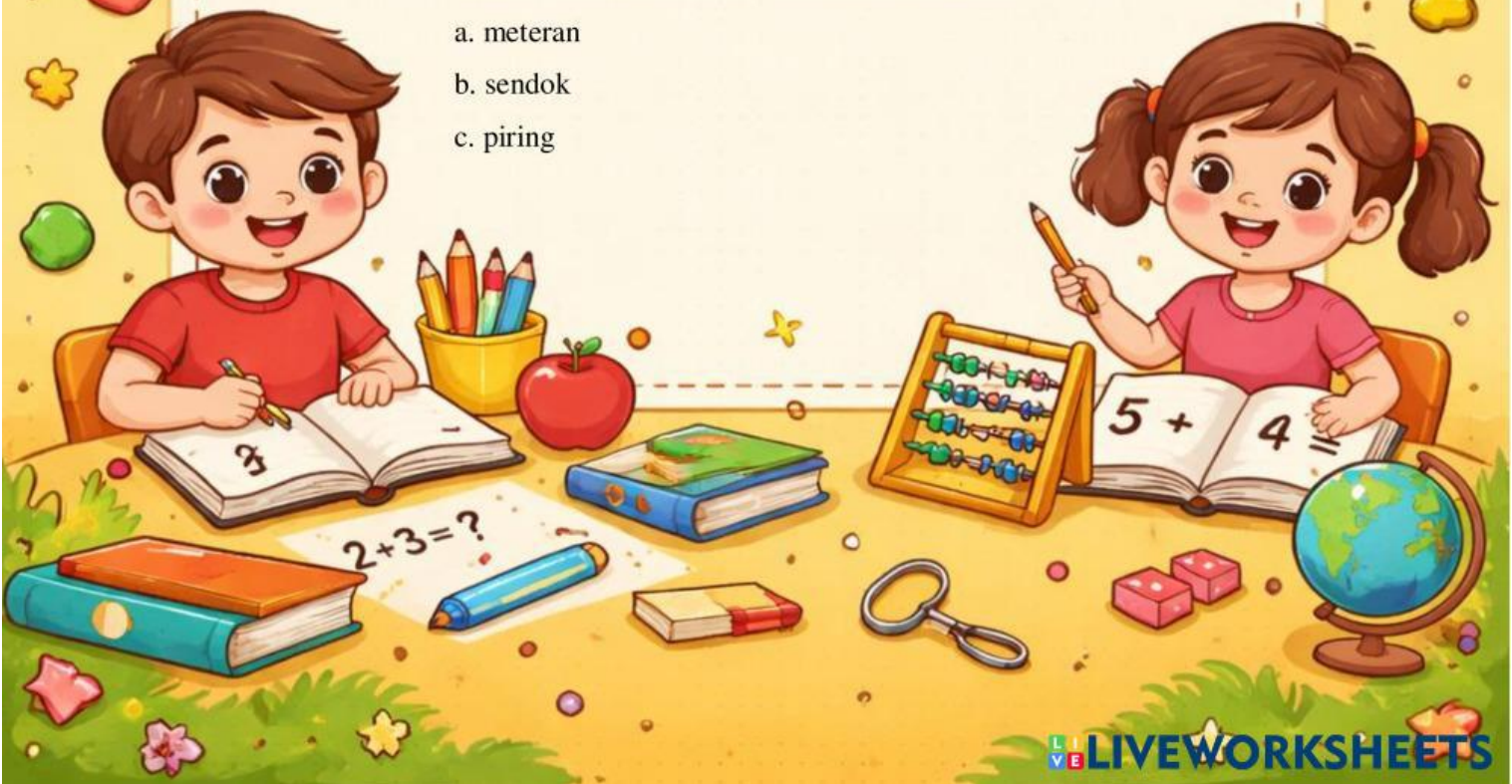



8. Buku lebih panjang dari pensil. Maka pensil ...

- a. lebih panjang
- b. lebih pendek
- c. sama panjang

9. Mengukur panjang meja bisa menggunakan ...

- a. meteran
- b. sendok
- c. piring





10. Tali yang paling pendek adalah ...

- a. 5 cm
- b. 10 cm
- c. 15 cm

11. Jika dua benda sama panjang, maka disebut ...

- a. berbeda
- b. sama
- c. panjang

12. Penggaris digunakan untuk mengukur ...

- a. berat
- b. panjang
- c. waktu

13. Panjang pensil biasanya diukur dengan ...

- a. meteran
- b. penggaris
- c. timbangan

No	Benda	Hasil Pengukuran
1	Meja	10 <u>jangkal</u>
2	Kursi	6 <u>jangkal</u>
3	Jendela	15 <u>jangkal</u>


14. Urutan dari yang paling pendek

ke panjang adalah ...

- a. kursi – jendela – meja
- b. kursi – meja – jendela
- c. jendela – meja – kursi







20. Contoh membandingkan panjang adalah ...

- lebih panjang
- lebih pendek
- lebih berat

**C. Tuliskan Benar (B) atau Salah (S)!**

21. Penggaris digunakan untuk mengukur panjang. (\_\_\_)
22. Meja lebih pendek dari pensil. (\_\_\_)
23. 10 cm lebih panjang dari 5 cm. (\_\_\_)
24. Timbangan digunakan untuk mengukur panjang. (\_\_\_)
25. Dua benda yang sama panjang berarti ukurannya sama. (\_\_\_)

