

שם: _____

שאלה 1

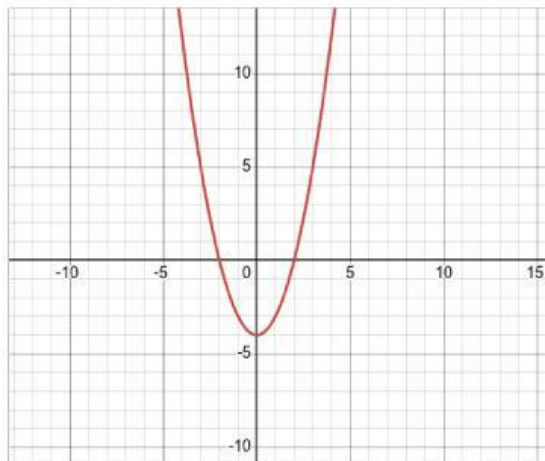
ew



1 of 10

Next >

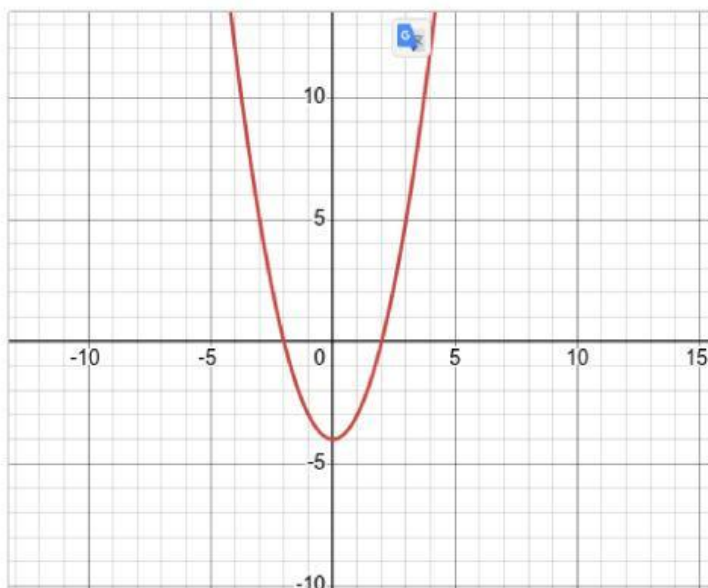
כמה נקודות אפס יש לפונקציה הנתונה ומהי נקודת החיתוך עם ציר ה-y?



נקודת חיתוך עם ציר ה-y	מספר נקודות אפס
(,)	

שאלה 2

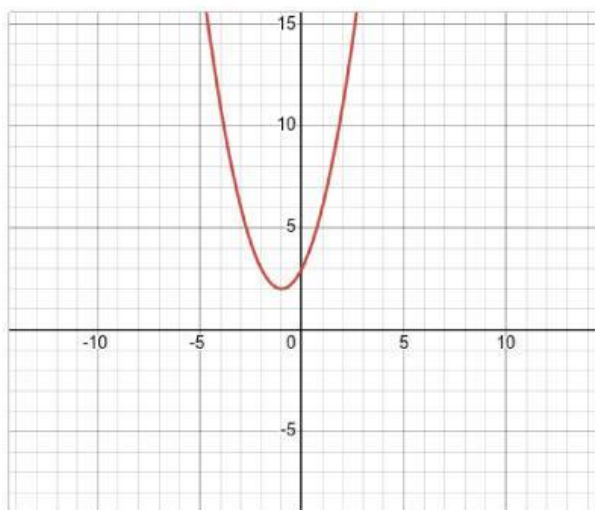
מהו תחום השלילות של הפונקציה?



- $x > 2, x < -2$
- $-4 < x < 2$
- $-2 < x < 2$
- $x < -4, x > 2$

שאלה 3

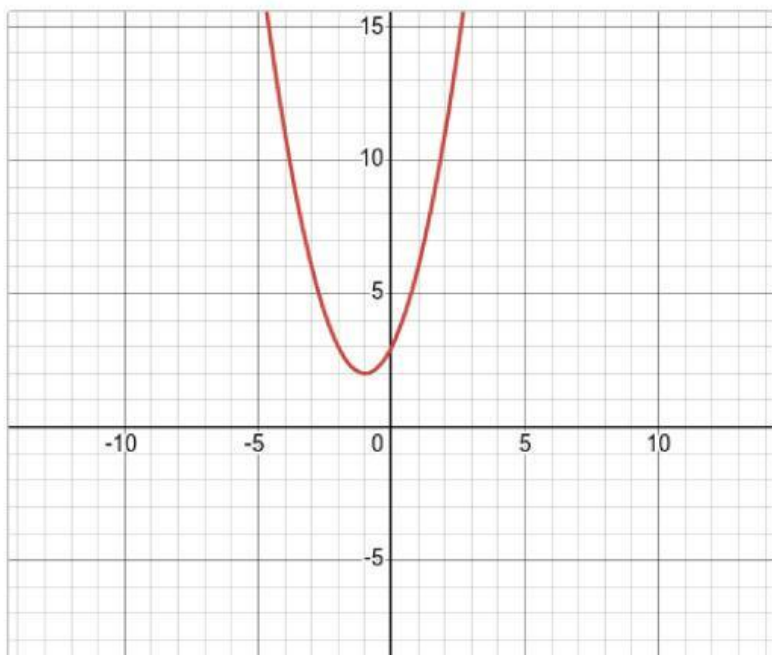
כמה נקודות אפס יש לפונקציה הנתונה ומהי נקודת החיתוך עם ציר ה y ?



נקודת חיתוך עם ציר ה y	מספר נקודות אפס
(.)	

שאלה 4

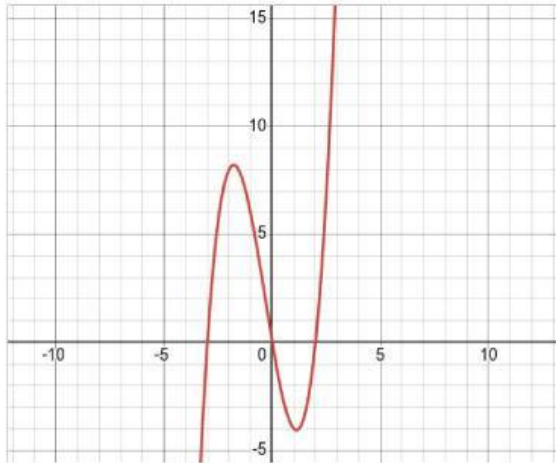
נתון כי גרף הפונקציה הנתונה שלילית עבור כל x



- נכון
- לא נכון
- לא ניתן לדעת

שאלה 5

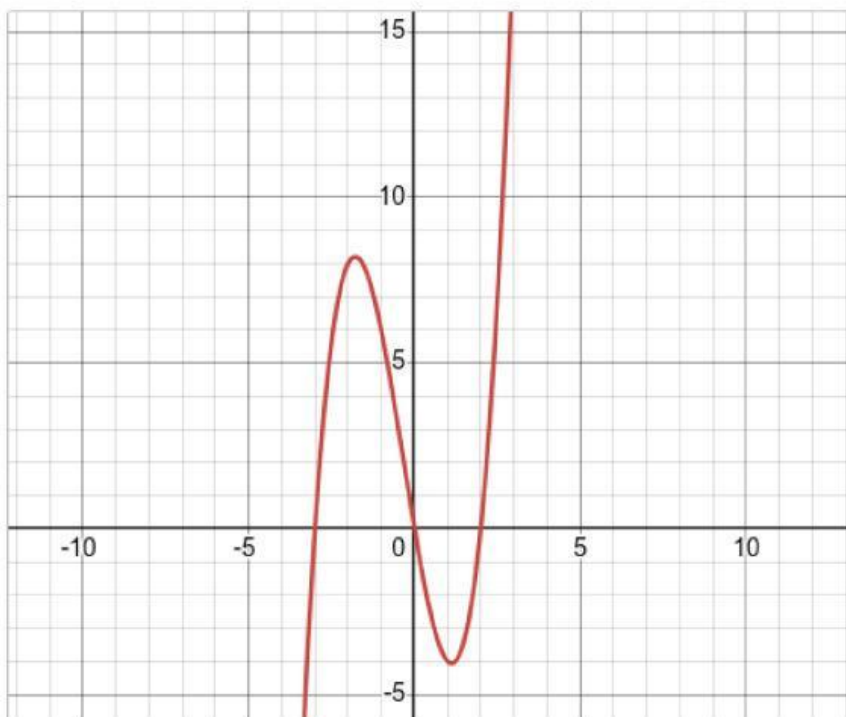
כמה נקודות אפס יש לפונקציה הנתונה ומהי נקודת החיתוך עם ציר ה y ?



נקודת חיתוך עם ציר ה y	מספר נקודות אפס
(,)	

שאלה 6

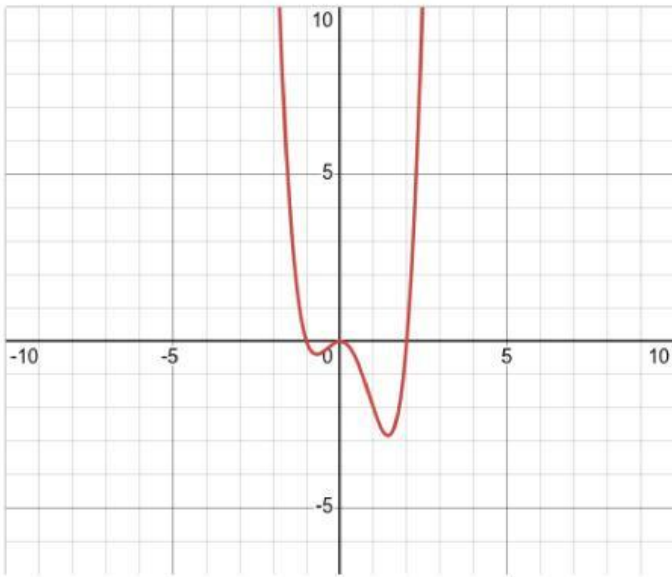
מהו תחום החיוביות של הפונקציה?



- $-3 < x < 2$
- $x < -3, 0 < x < 2$
- $x < -3, x > 2$
- $-3 < x < 0, x > 2$

שאלה 7

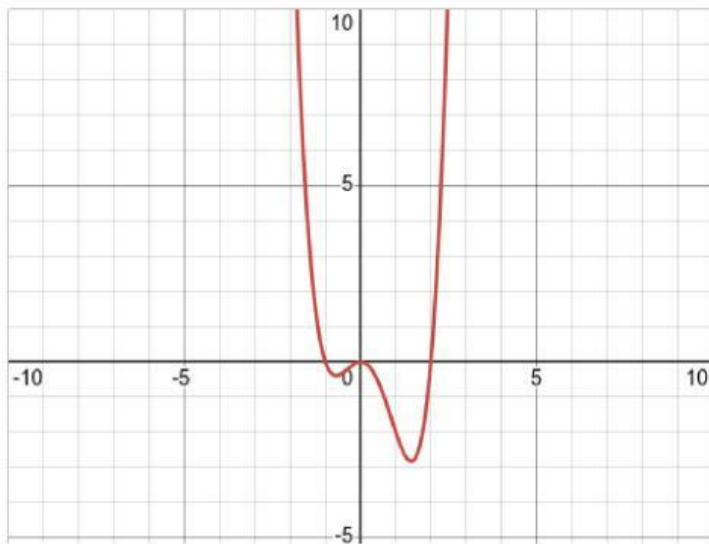
כמה נקודות אפס יש לפונקציה הנתונה ומהי נקודת החיתוך עם ציר ה y ?



נקודת חיתוך עם ציר ה y	מספר נקודות אפס
(.)	

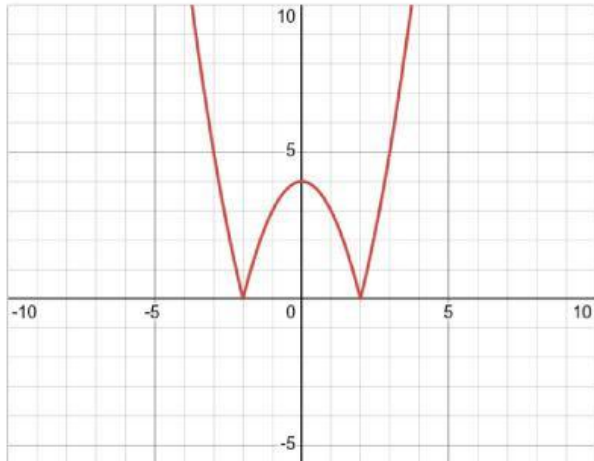
שאלה 8

מהו תחום השליליות של הפונקציה?



שאלה 9

כמה נקודות אפס יש לפונקציה הנתונה ומהי נקודת החיתוך עם ציר ה y ?



נקודת חיתוך עם ציר ה y	מספר נקודות אפס
<input type="text" value="(0 , 3)"/>	<input type="text"/>

שאלה 10

מהו תחום החיוביות של הפונקציה?

