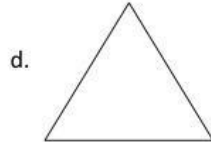
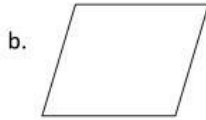
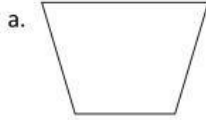


Berdasarkan panjang sisinya nama segitiga di samping adalah.....

- a. Sama sisi
- b. Sama kaki
- c. Segi tiga sembarang
- d. Segitiga siku siku




22. Gambar di bawah yang mempunyai sudut tumpul adalah.....



Jenis sudut terkecil yang terbentuk antara jarum panjang dan jarum pendek jam pada gambar adalah....

- a. Sudut refleks
- b. Sudit siku-siku
- c. Sudut tumpul
- d. Sudut lancip

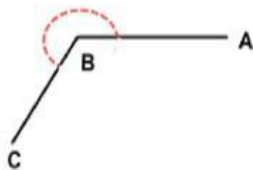


Besar sudut terkecil yang di bentuk oleh kedua jarum jam di samping adalah.....

- a. 150
- b. 120
- c. 140
- d. 150



25. Perhatikan gambar berikut!



Besar sudut refleks ABC di samping adalah.....

- a. 90
- b. 120
- c. 260
- d. 180



Diagram batang berikut untuk mengerjakan soal nomor 26 dan 27



26. Banyak pengunjung perpustakaan pada hari jumat adalah....

- a. 235
- b. 256
- c. 278
- d. 186



27. Pernyataan yang benar berdasarkan diagram batang tersebut adalah....
- Pengunjung perpustakaan paling banyak pada hari sabtu
 - Pengunjung perpustakaan pada hari senin lebih banyak daripada hari selasa.
 - Pengunjung perpustakaan hari rabu sama banyak dengan hari kamis.
 - Pengunjung perpustakaan pada hari sabtu lebih sedikit daripada hari jumat.
28. Bilangan 215.437 dibaca.....
- Dua ratus satu lima empat tiga tujuh
 - Dua ratus lima belas lima ratus enam tujuh.
 - Dua ratus lima belas ribu empat ratus tiga puluh tujuh
 - Duasatu limaempat tiga tujuh
29. Angka 6 pada bilangan berikut yang menempati nilai tempat ribuan adalah....
- 700.569
 - 897.699
 - 976.542
 - 688.722
30. Bandingkan bilangan berikut.
- 756.012 751.980
- | | |
|------|-------|
| a. < | c. = |
| b. > | d. =+ |

Ketentuan pengerjaan:

- Dikerjakan dengan aplikasi di HP (bagi yang punya) dan bagi yang tidak memiliki HP di kertas polio (paper sheet) dengan penulisan Identitas harus lengkap dan Ejaan yang benar.
- Siswa yang tidak memiliki HP dikerjakan di kertas polio dikerjakan berikut optionnya dan ditandatangani Orangtua disertai nama (nama Orangtua) dan Batas waktu sampai pukul 10.00 WIB, dikirim melalui WA (bisa pakai HP ortu, teman atau saudara).
- Bagi siswa yang menjawab dengan HP batas waktu tertera di aplikasi yaitu 90 menit, pengerjaan tidak bisa diulang apabila semua jawaban (30 soal) sudah dikirim atau batas waktu habis.
- Aplikasi akan berhenti secara otomatis apabila melebihi batas waktu yang telah ditentukan (tertera di Aplikasi).
- Siswa yang mengerjakan di kertas polio (paper sheet) paling lambat pukul 10.00 karena pukul 10.00-11.30 pelajaran PAI.