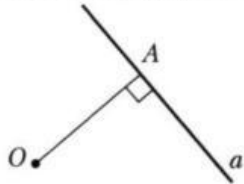
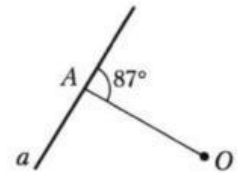


1 Сколько общих точек имеют прямая a и окружность с центром в точке O и радиусом OA ?



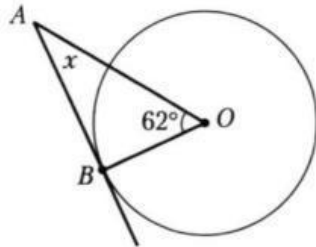
Ответ:

2 Сколько общих точек имеют прямая a и окружность с центром в точке O и радиусом OA ?



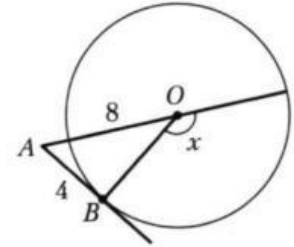
Ответ:

3 AB – касательная. Найдите угол x .



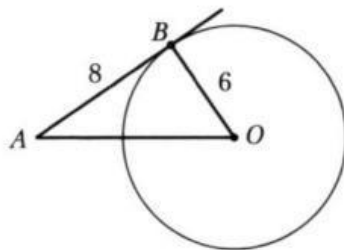
Ответ:

4 AB – касательная. Найдите угол x .



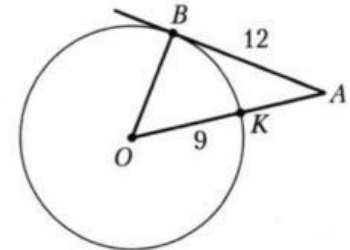
Ответ:

5 Прямая AB – касательная. Найдите AO .



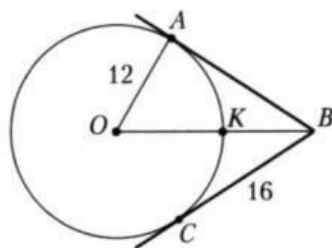
Ответ:

6 Точка B – точка касания. Найдите AK .



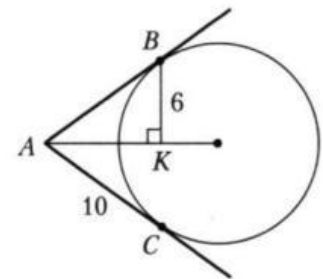
Ответ:

7 Найдите KB .



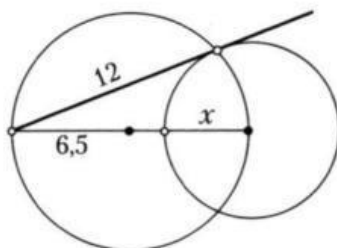
Ответ:

8 Найдите AK .



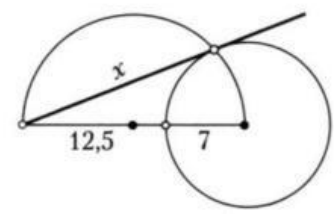
Ответ:

9 Найдите x .



Ответ:

10 Найдите x .



Ответ: