



Kurikulum
Merdeka

KEGIATAN INTERAKTIF



Nama :

Kelas :

Penjumlahan dengan Cerita Sederhana

Arahan!

Bacalah soal cerita berikut ini dengan teliti. Tuliskan jawaban soal tersebut dengan benar!



Sebuah alat gambelan bali gendang berbentuk tabung memiliki:

jari-jari = 4 cm dan tinggi = 10 cm ($\pi = 22/7$)

Hitunglah volume tabung tersebut!

Jawab: _____



Sebuah pucuk pelinggih/sanggah berbentuk kerucut dengan jari-jari = 3 cm dan tinggi = 4 cm ($\pi = 22/7$)

Berapa volume kerucut tersebut?

Jawab: _____



Sebuah wadah tirta berbentuk bola memiliki:

jari-jari = 3 cm ($\pi = 22/7$)

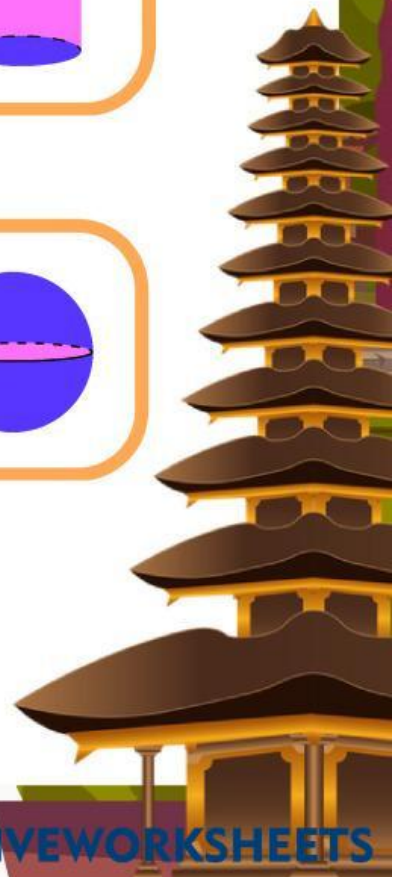
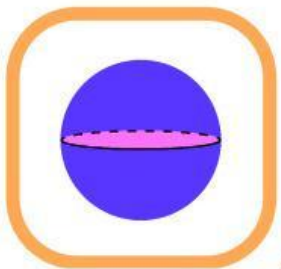
Hitunglah volume bola tersebut!

Jawab: _____

Soal Mencocokkan Gambar



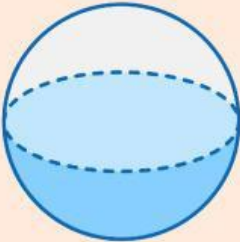
Bangun Ruang Sederhana dalam Budaya Bali

Petunjuk Pasangkan bangun ruang di bawah ini dengan tepat.



Mengenal bangun ruang sederhana

Petunjuk Amati gambar bangun ruang , tuliskan nama bangun ruang, lalu isi jumlah sisi, rusuk, dan titik sudutnya dengan benar!

No	Gambar Bangun Ruang	Nama Bangun Ruang	Bagian Bangun Ruang
1			<ul style="list-style-type: none">• Sisi:• Rusuk:• Titik sudut:
2			<ul style="list-style-type: none">• Sisi:• Rusuk:• Titik sudut:
3			<ul style="list-style-type: none">• Sisi:• Rusuk:• Titik sudut:

