

Lembar Kerja Peserta Didik

LKPD

Ilmu Pengetahuan Alam dan Sosial (IPAS)

Untuk Kelas 5 SD/MI

Mengenal Indonesia Melalui Peta

Nama:

Kelas:



Mengidentifikasi Komponen-Komponen Peta

CP: Murid menggunakan peta konvensional/digital untuk mengenal letak dan kondisi geografi negara Indonesia.

Tujuan Pembelajaran :

1. Menjelaskan bagian-bagian peta dan fungsinya
2. Menunjukkan letak dan kondisi geografis wilayah Indonesia

Petunjuk Kerja :

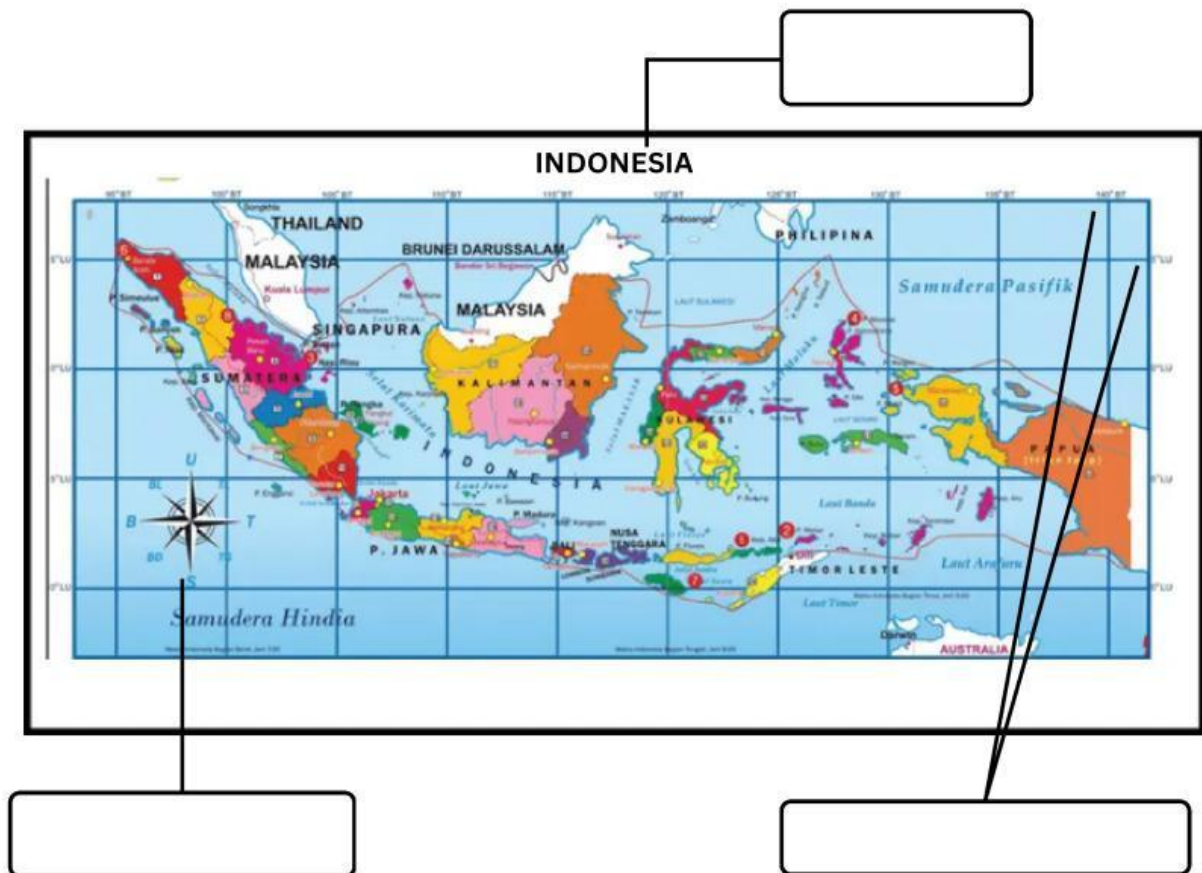
1. Tulislah Nama dan Kelas pada halaman Pertama dengan mengklik kotak Nama dan Kelas.
2. Ikuti alur kerja LKPD ini sesuai arahan dan petunjuk yang ada.
3. Jika kamu diminta menonton video, klik pada tombol yang sudah disediakan.
4. Jika kamu diminta mengerjakan kuis, kerjakan dengan baik dan benar sesuai petunjuk.
5. Untuk melakukan Tes Evaluasi, Klik sesuai arahan.



**Agar kamu lebih tahu
tentang komponen-
komponen peta, silahkan
tonton Video dibawah ini!**

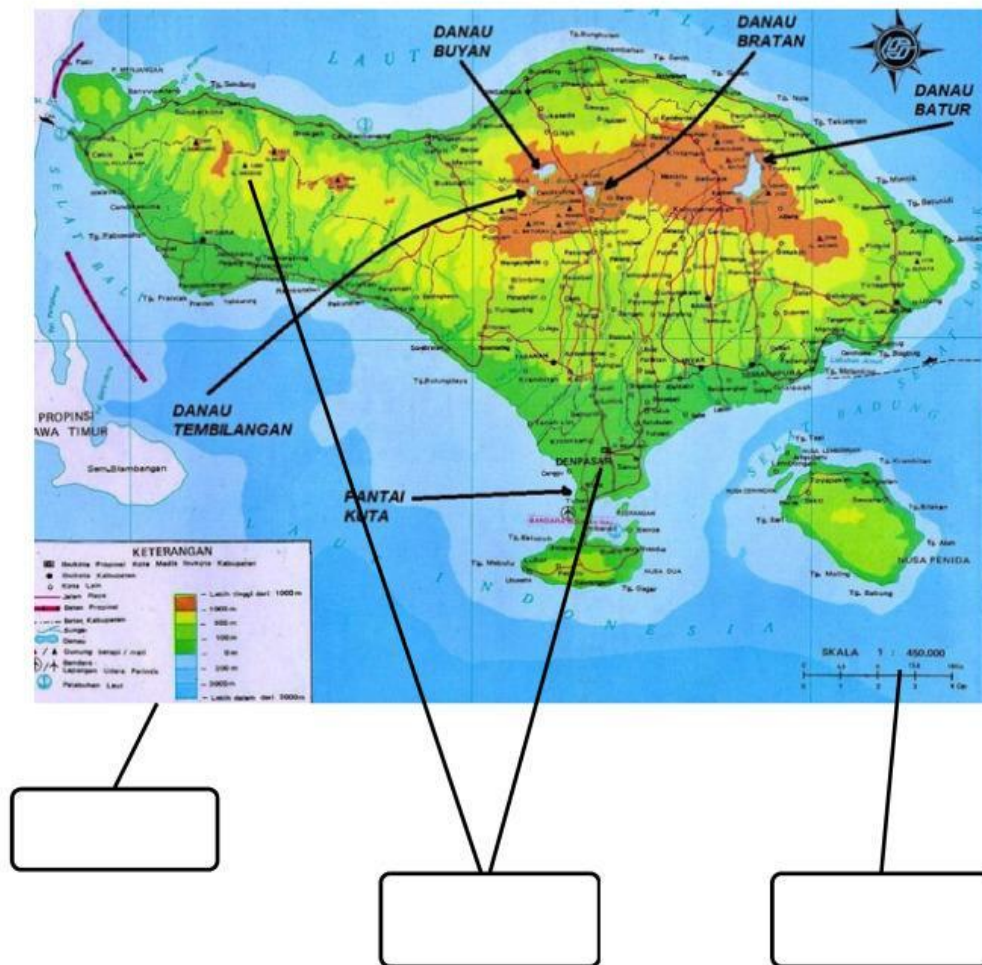
Mengidentifikasi Komponen-Komponen Peta

Perhatikanlah gambar peta di bawah ini, kemudian sebutkan komponen-komponen utama yang kamu lihat pada peta tersebut!



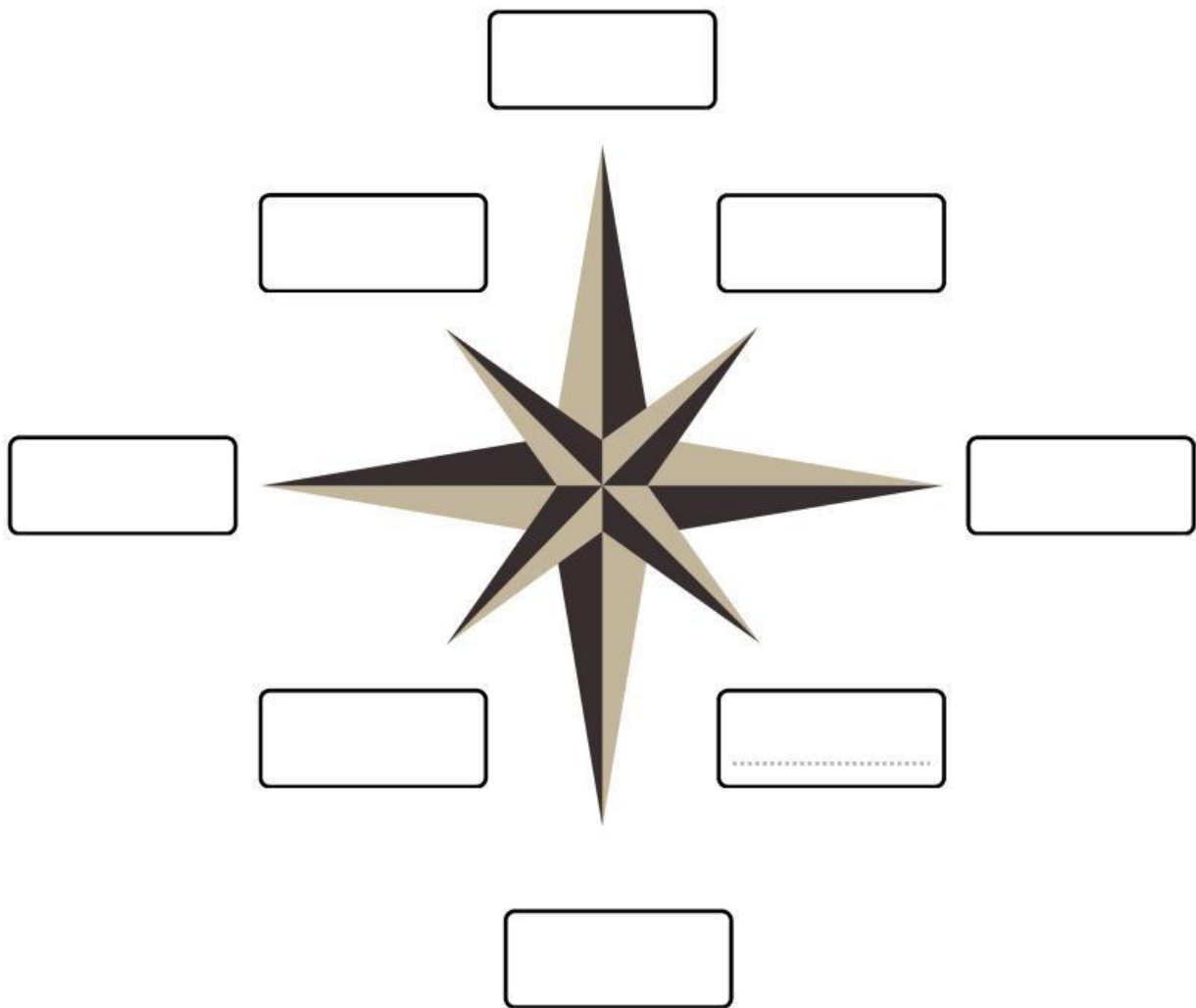
Mengidentifikasi Komponen-Komponen Peta

Perhatikanlah gambar peta di bawah ini, kemudian sebutkan komponen-komponen utama yang kamu lihat pada peta tersebut!



Menulis Arah Mata Angin Pada Kompas

Perhatikanlah gambar komponen di bawah ini, dan isilah jawaban pada titik-titik di bawah soal sesuai arah pada kompas.



Mengidentifikasi Fungsi Komponen Pada Peta

Perhatikanlah gambar komponen di bawah ini, dan isilah jawaban pada titik-titik di bawah soal dengan benar.

Legenda			
	Jalan Utama		Kecamatan
	Jalan Alternatif		Rawan Kemacetan
	Jalan Biasa		Rawan Kecelakaan
	Jalan Tol		Kondisi Jalan Buruk
	Jalan KA		Rawan Banjir
	Batas Provinsi		Rawan Longsor
	Ibukota		Pom Bensin
	Kota		Bengkel

Dapatkan kamu menjelaskan komponen apa yang ada pada gambar di atas, apakah fungsi dari komponen tersebut?

.....

.....

.....

.....

.....

.....

.....

Mengidentifikasi Fungsi Komponen Pada Peta

Perhatikanlah gambar komponen di bawah ini, dan isilah jawaban pada titik-titik di bawah soal dengan benar.



Dari gambar diatas, kita bisa melihat titik koordinat Indonesia. Jelaskan titik koordinat Indonesia!

.....

.....

.....

.....

.....

.....

Mengidentifikasi Fungsi Komponen Pada Peta

Perhatikanlah gambar komponen di bawah ini, dan isilah jawaban pada titik-titik di bawah soal dengan benar.



- Jelaskan apa yang dimaksud dengan Skala !
- Lihat kembali gambar diatas ! Skala Peta tersebut adalah 1 : 320.000 Bagaimana cara membaca skala tersebut !

.....

.....

.....

.....

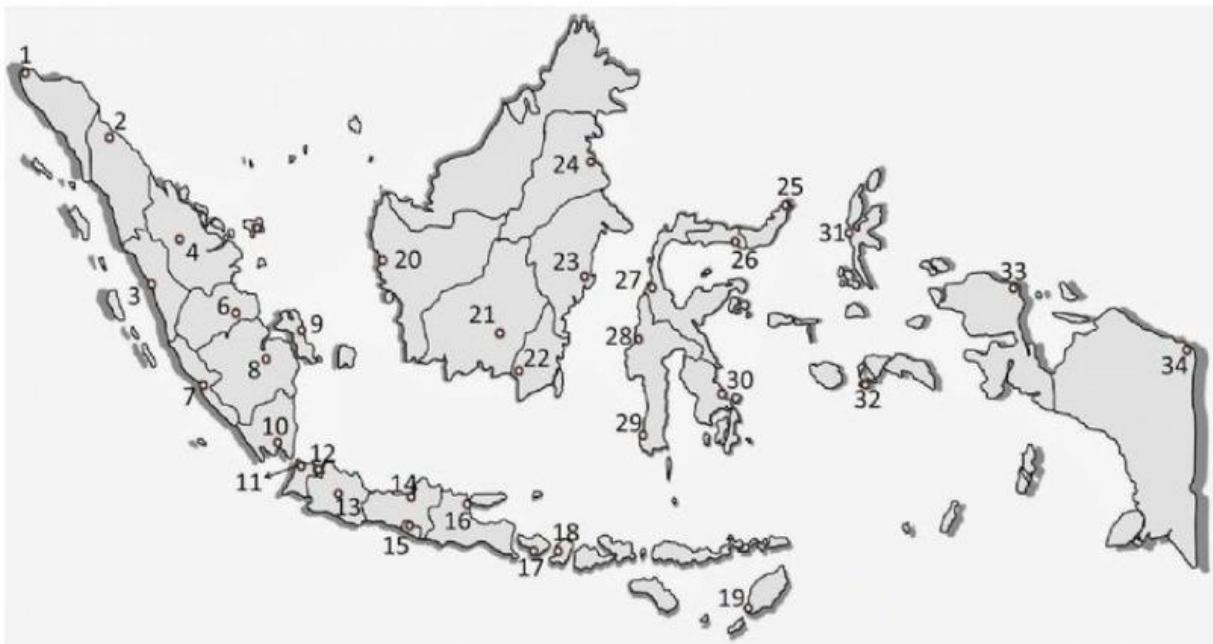
.....

.....

.....

Menemukan Letak Provinsi Di Suatu Pulau

Dapatkan kamu menyebutkan provinsi-provinsi pada pulau di bawah ini sesuai huruf abjad, apa nama dari provinsi tersebut?



Sebutkan nama Provinsi yang ditunjukkan oleh nomer 1, 12, dan 17.

.....

.....

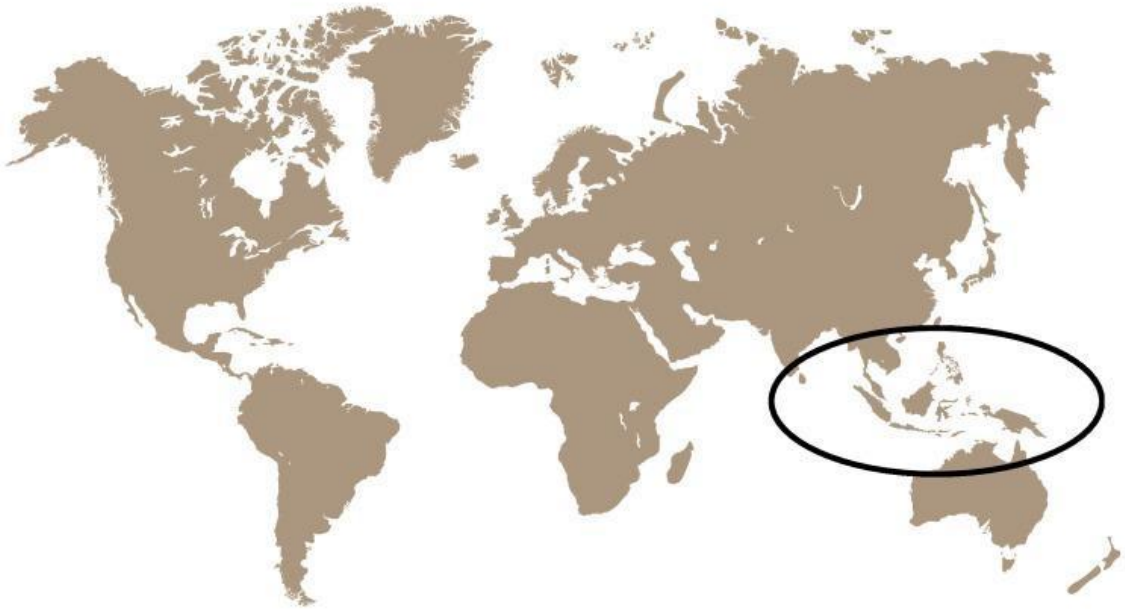
.....

.....

.....

Menemukan Letak Geografis Indonesia

Temukan letak geografis negara Indonesia berdasarkan posisi terhadap benua dan samudra yang mengelilinginya.



.....

.....

.....

.....

.....

EVALUASI

