

## مادة الرياضيات: درس الثلث والرابع

### نشاط تقييبي

☆ أصِلْ الكسر بالصورة التي تمثلها لها:



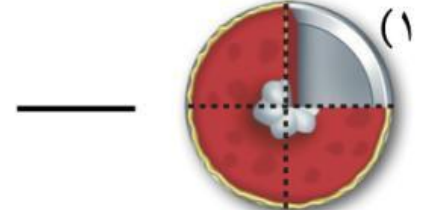
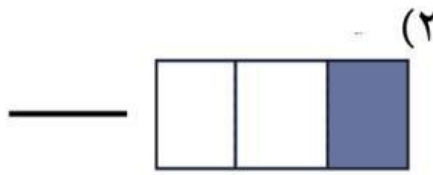
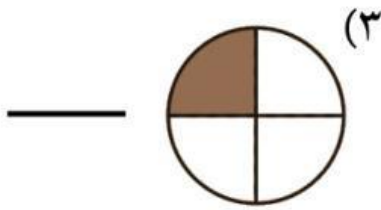
$$\frac{1}{3}$$



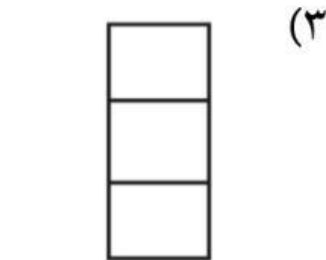
$$\frac{1}{4}$$



☆☆ أكتب الكسر الذي يمثل الجزء الملون أو المأكول:



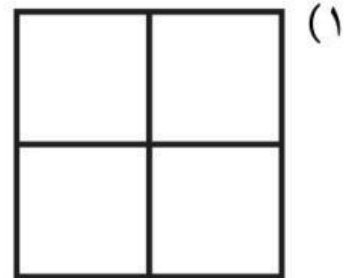
☆☆☆ ألون الجزء الأول من الشكل، وأختار الكسر الذي يمثله:



$$\frac{1}{4} \quad \frac{1}{3} \quad \frac{1}{2}$$



$$\frac{1}{4} \quad \frac{1}{3} \quad \frac{1}{2}$$



$$\frac{1}{4} \quad \frac{1}{3} \quad \frac{1}{2}$$