

Họ và tên: \_\_\_\_\_

Ngày: \_\_\_\_\_

## I. Trắc nghiệm

### Câu 1.

a) Viết các số: Tám mươi sáu : .....; Hai mươi lăm: .....

b) Đọc số: 98: .....; 35: .....

**Câu 2:** Số lớn nhất trong các số 89, 98, 67, 100 là:

A. 100                      B. 98                      C. 89                      D. 67

**Câu 3:** Số bé hơn số 50 là số:

A. 51                      B. 49                      C. 52                      D. 50

**Câu 4:** Dấu thích hợp để điền vào chỗ chấm  $72 + 2 \dots 95 - 13$

A. <                      B. >                      C. =

**Câu 5:** Kết quả của phép tính  $55\text{cm} + 32\text{cm}$  là:

A. 87cm                      B. 87                      C. 67                      D. 78

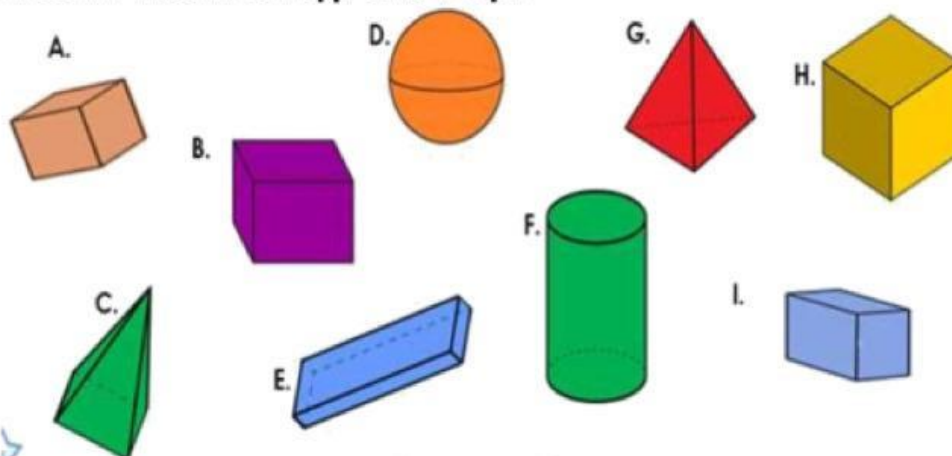
**Câu 6. Con đọc và trả lời yêu cầu sau**

a. Bộ phim hoạt hình Lava dài 2 giờ. Lúc phim bắt đầu, đồng hồ chỉ 6 giờ. Hỏi khi phim kết thúc, kim ngắn của đồng hồ chỉ số mấy?

Trả lời:.....

b. Huy ăn trưa lúc 12 giờ. Lúc đó, kim giờ chỉ số ..... và kim phút chỉ số .....

**Câu 7. Khoanh vào khối hộp chữ nhật.**



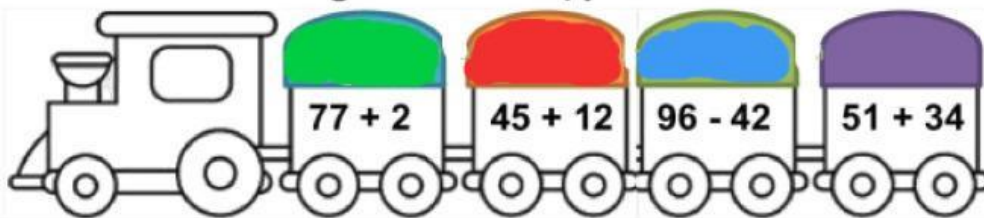
**Câu 8. Khoanh vào chữ đặt trước câu trả lời đúng**

Việt Nam nằm trong khu vực Đông Nam Á. Khu vực Đông Nam Á có 11 nước và vùng lãnh thổ, trong đó chỉ có nước Lào không giáp biển. Hỏi có bao nhiêu nước Đông Nam Á giáp biển?

A. 9 nước                      B. 10 nước                      C. 11 nước

## II. Tự luận


**Câu 1. Viết vào ô trống cho thích hợp**




Tòa	A	B	C	D
Kết quả				

**Câu 2. Đặt tính rồi tính**


$76 - 23$




$33 + 56$



$48 - 2$



$61 + 7$



**Câu 3. Viết số thích hợp vào ô trống**

Khối 1 được nhà trường giao chăm sóc 35 chậu hoa. Khối 2 được nhà trường giao chăm sóc 42 chậu hoa. Hỏi hai lớp được nhà trường giao chăm sóc tất cả bao nhiêu chậu hoa?

--	--	--	--	--	--

Hai lớp chăm sóc tất cả  chậu hoa.

**Câu 4. Điền từ và số thích hợp vào chỗ chấm**



Hôm nay là ..... ngày  
..... tháng .....



Ngày mai là ..... ngày  
..... tháng .....



Hôm qua là ..... ngày  
..... tháng .....