



# LKPD

Tema: Piktogram dan Diagram Batang

Nama: \_\_\_\_\_






Kelas: \_\_\_\_\_



# Piktogram

Perhatikan piktogram, jawablah pertanyaan  
di bawah ini.

## Piktogram Alat Tulis

Alat Tulis	Jumlah
Pensil	
Buku	
Penggaris	
Gunting	
Penghapus	

### Pertanyaan:

- Apa saja alat tulis dalam piktogram?

Jawab: \_\_\_\_\_

- Apa alat tulis yang paling banyak?

Jawab: \_\_\_\_\_

- Apa alat tulis yang paling sedikit?

Jawab: \_\_\_\_\_

- Berapakah jumlah seluruh alat tulis?

Jawab: \_\_\_\_\_

- Berapakah selisih pensil dan penghapus?

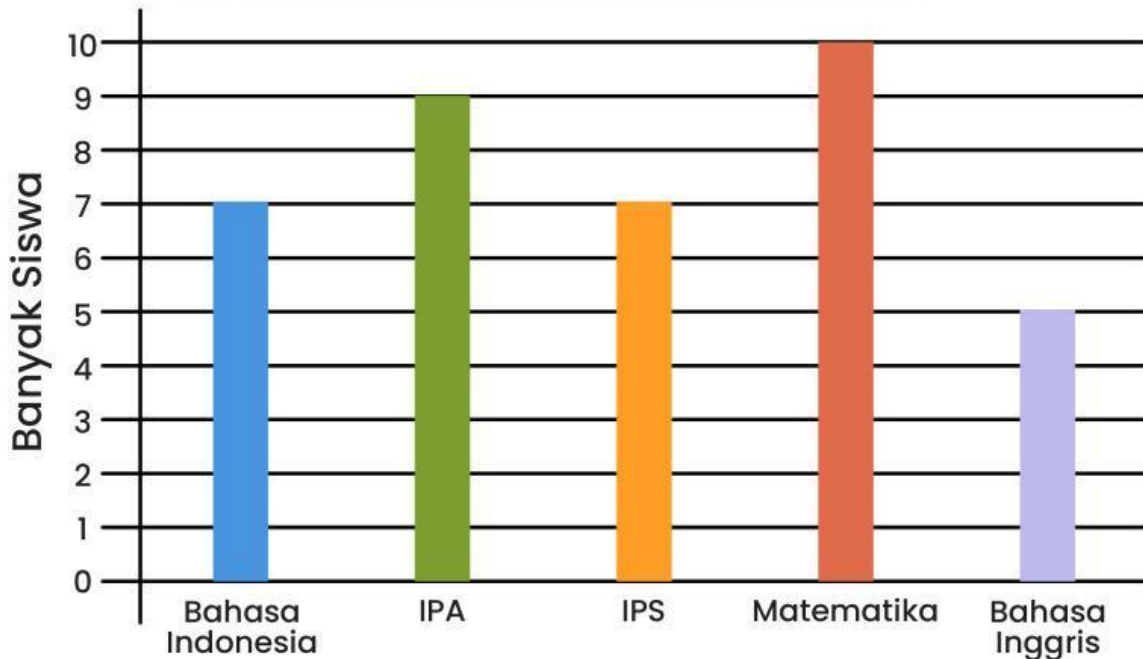
Jawab: \_\_\_\_\_

## Diagram Batang

Perhatikan diagram batang, Jawablah pertanyaan di bawah ini.



### Mata Pelajaran Kesukaan



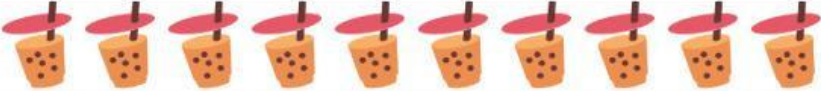




### Pertanyaan:

- Apa saja mata pelajaran dalam diagram batang?  
Jawab: \_\_\_\_\_
- Apa mata pelajaran yang banyak disukai?  
Jawab: \_\_\_\_\_
- Apa mata pelajaran yang sedikit disukai?  
Jawab: \_\_\_\_\_
- Berapakah banyak seluruh siswa?  
Jawab: \_\_\_\_\_
- Berapakah selisih matematika dan IPS?  
Jawab: \_\_\_\_\_

# Piktogram menjadi Diagram Batang

Perhatikan piktogram, Ubahlah menjadi diagram batang pada kotak di bawah ini.

## Piktogram Makanan

Alat Tulis	Jumlah
Teh	
Burger	
Kue	
Roti	
Es Krim	

## Diagram Batang Makanan

