



แรงลัพธ์
0 5 10 15
15 20 30

เคลื่อนที่ไปทาง
ซ้าย ขวา ขวา ขวา
ขวา ขวา หยุดอยู่กับที่

ซ้าย

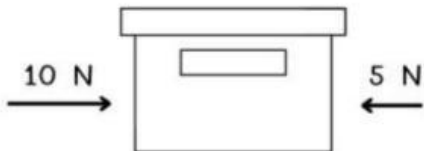
ขวา

1



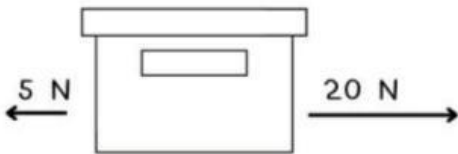
แรงลัพธ์ มีขนาด _____ นิวตัน
 วัตถุเคลื่อนที่ไปทาง _____

2



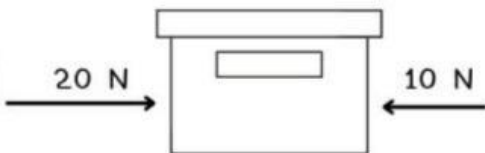
แรงลัพธ์ มีขนาด _____ นิวตัน
 วัตถุเคลื่อนที่ไปทาง _____

3



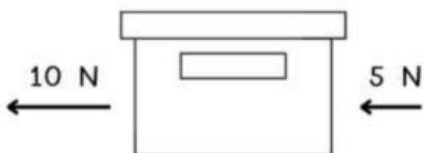
แรงลัพธ์ มีขนาด _____ นิวตัน
 วัตถุเคลื่อนที่ไปทาง _____

4



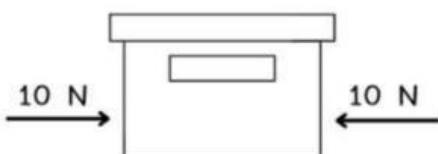
แรงลัพธ์ มีขนาด _____ นิวตัน
 วัตถุเคลื่อนที่ไปทาง _____

5



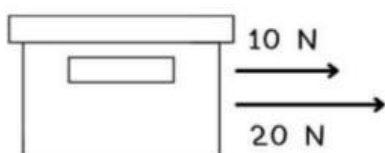
แรงลัพธ์ มีขนาด _____ นิวตัน
 วัตถุเคลื่อนที่ไปทาง _____

6



แรงลัพธ์ มีขนาด _____ นิวตัน
 วัตถุเคลื่อนที่ไปทาง _____

7



แรงลัพธ์ มีขนาด _____ นิวตัน
 วัตถุเคลื่อนที่ไปทาง _____