

Nama:


Kelas:




MENGENAL WAKTU



Gambarlah jarum jam sesuai dengan waktu yang tertulis di bawah gambar kegiatan. Pastikan jarum menunjukkan jam yang benar!




Adik bangun tidur pukul 05:00 pagi




Mereka bermain pukul 03:00 sore




Ibu pergi ke pasar pukul 10:00 pagi



Kakak mandi pada pukul 08:00 pagi



Pergi sekolah pukul 06:00 pagi



Adik tidur pukul 09:00 malam