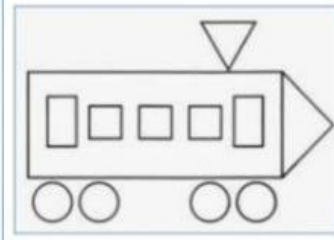



Họ và tên: _____

Ngày: _____

1. Đếm hình



2. Điền số còn thiếu



3. Điền dấu >, <, =

23 21

46 48

5 3

13 10

35 37

8 5

43 45

27 29

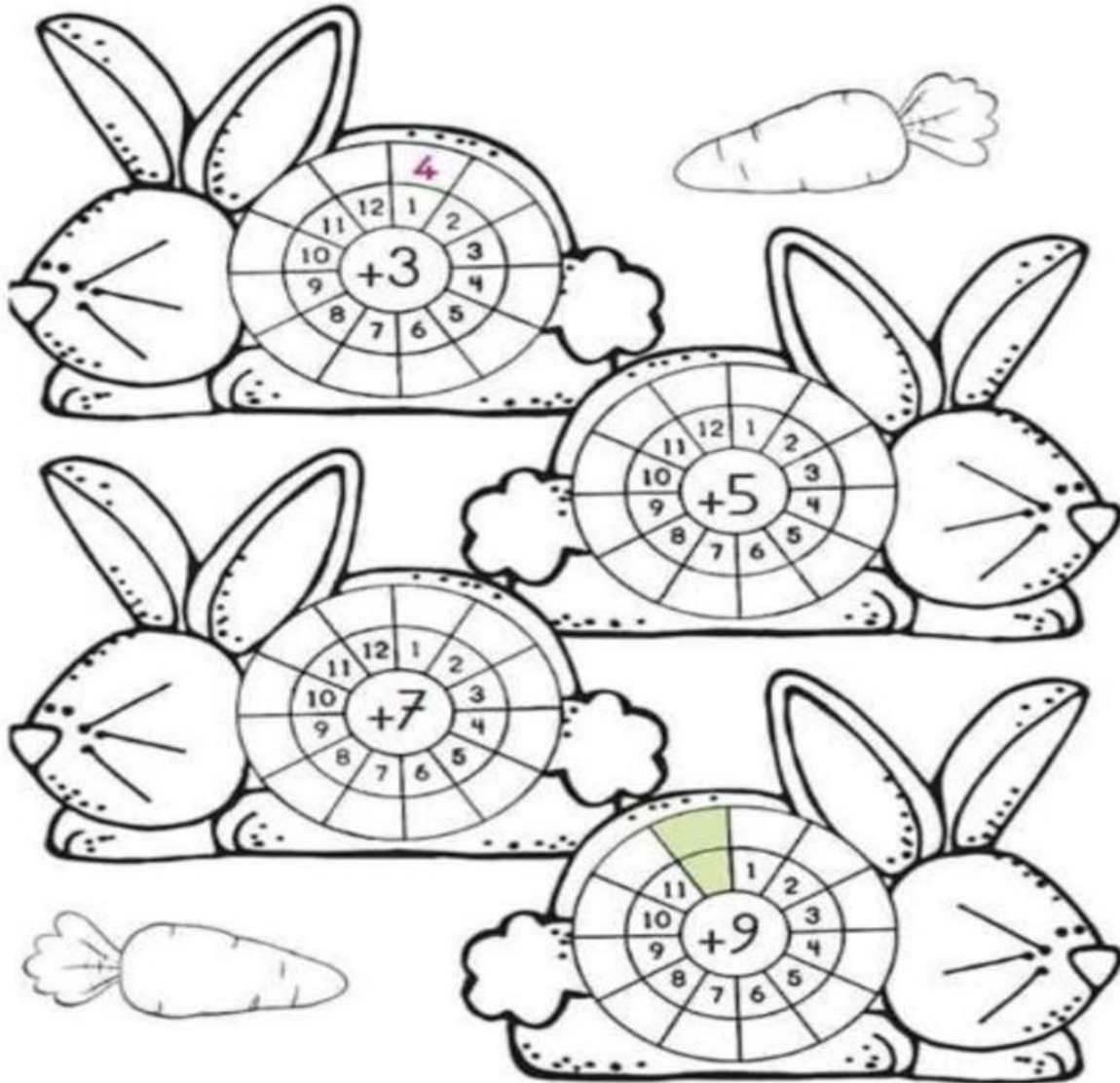
11 9

7 4

21 19

44 46

4. Thực hiện phép tính



5. Điền số còn thiếu

$$2 + \text{apple} = 3 \quad 5 + 5 = \text{apple}$$

$$3 + \text{apple} = 7 \quad 4 + 2 = \text{apple}$$

$$5 + \text{apple} = 8 \quad 2 + 7 = \text{apple}$$