














التمثيلات البيانية بالصور

 فراولة					
 برتقال					
 تفاح					

استخدام التمثيل البياني في الإجابة عن الأسئلة

1. كم شخصًا اختار الفراولة؟ _____

2. هل من اختاروا البرتقال أكثر أم من اختاروا التفاح؟ _____